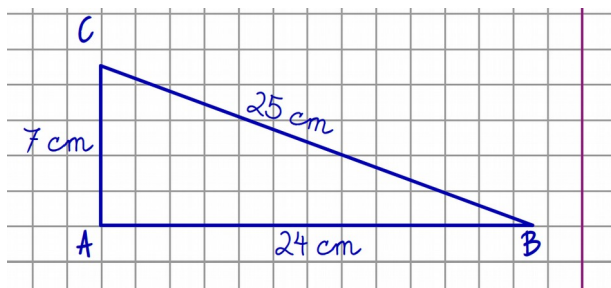


## Otto problemi di riepilogo sulle aree dei poligoni – soluzioni guidate

### PROBLEMA 1)

In un triangolo rettangolo  $ABC$ , l'angolo retto è  $\hat{A}$ , i tre lati  $AB$ ,  $BC$  e  $AC$  misurano 7, 25 e 24 cm.

a) Disegna la figura.



#### Commento al disegno

È sempre opportuno disegnare una figura geometrica nel rispetto dei dati. In questo caso sono fornite le lunghezze dei tre lati ed è quindi possibile disegnare il triangolo rispettando la proporzione tra i lati e quindi la forma.

Le dimensioni reali della figura sono troppo grandi, occuperebbero quasi tutto il foglio, anche considerando 1 quadretto = 1 centimetro, la figura è ancora molto grande.

Ho ottenuto una riduzione soddisfacente dimezzando i valori e prendendo come unità 1 quadretto ( $q$ ):

$$AB = 3,5 q ; BC = 12,5 q ; AC = 12 q$$

#### Commento ai dati

$\hat{A} = 90^\circ$  è un dato che spesso si dimentica perché il numero 90 non è scritto nel testo della richiesta. In casi come questi si dice che il dato è implicito.

$\hat{A} = 90^\circ$  non è necessario al calcolo dell'area, ma senza questa informazione non saprei che il triangolo è rettangolo e quindi non potrei calcolare facilmente l'area usando la formula:

$$A = \frac{b \cdot h}{2}$$

b) Calcola l'area del triangolo.

DATI

$$\hat{A} = 90^\circ$$

$$AB = 7 \text{ cm}$$

$$BC = 25 \text{ cm}$$

$$AC = 24 \text{ cm}$$

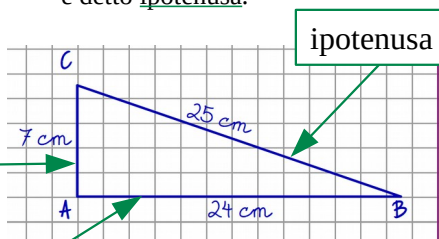
$$A_{ABC} = ?$$

SVOLGIMENTO

$$A_{ABC} = \frac{AC \cdot AB}{2} = \frac{24 \cdot 7}{2} = \frac{12 \cdot 7}{1} = 84 \text{ cm}^2$$

cateto minore

cateto maggiore



Nel triangolo rettangolo, se consideriamo un cateto come base, l'altro cateto è la sua altezza relativa

#### Rifletto

Quando si opera con frazioni, bisogna sempre prima ridurre i termini (se possibile) e poi moltiplicare;

in questo caso posso ridurre i termini dividendo per due il fattore 24 e il denominatore 2.

Il dato  $BC = 25 \text{ cm}$  NON mi è servito al calcolo dell'area.

**PROBLEMA 2)**

Ci sono due quadrati: il primo ha l'area di  $36 \text{ cm}^2$ , il secondo ha l'area di  $40 \text{ cm}^2$ .

Calcola il perimetro di ciascuno dei due quadrati.

DATI

$$A_1 = 36 \text{ cm}^2$$

$$A_2 = 40 \text{ cm}^2$$

$$p_1 = ?$$

$$p_2 = ?$$

SVOLGIMENTO

$$\ell_1 = \sqrt{A_1} = \sqrt{36} = 6 \text{ cm}$$

$$\ell_2 = \sqrt{A_2} = \sqrt{40} \approx 6,32 \text{ cm}$$

$$p_1 = 4 \ell_1 = 6 \cdot 4 = 24 \text{ cm}$$

$$p_2 = 4 \ell_2 = 6,3246 \cdot 4 \approx 25,30 \text{ cm}$$

**Commento allo svolgimento**

In questo problema sono necessari **due passaggi**:

- 1) **calcolo** i lati  $\ell$  applicando la formula inversa dell'area di un quadrato
- 2) **calcolo** i perimetri  $p = 4\ell$

**Rifletto**

Il numero **36** è un quadrato perfetto quindi la sua radice posso scriverla esattamente.

Il numero **40** NON è un quadrato perfetto quindi la sua radice posso scriverla solo in forma approssimata;

il risultato fornito dalle tavole è 6,3246 tuttavia due cifre decimali forniscono un'approssimazione già molto buona, non ne servono di più;

infatti 6,32 cm significa 6 cm + 3 mm + 2 decimi di millimetro, nelle situazioni più comuni non serve essere più precisi.

Nel calcolo del  $p_2$  ho usato il numero completo ottenuto dalle tavole e non la sua approssimazione;

il risultato ottenuto nel calcolo in colonna l'ho approssimato per eccesso;

infatti 25,2984 è più vicino a 25,3000 rispetto a 25,2900;

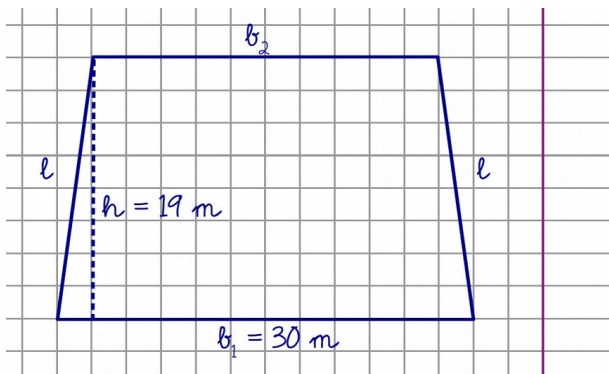
se avessi usato il valore  $\ell_2 \approx 6,32 \text{ cm}$  avrei ottenuto un  $p_2 \approx 25,28 \text{ cm}$ ;

conviene sempre approssimare solo sul risultato finale.

**PROBLEMA 3)**

In un trapezio isoscele l'altezza misura 19 m, una base misura 30 m ed è i 6/5 dell'altra.

a) Disegna la figura.



*Commento al disegno*

Nel disegno di un poligono, l'elemento più importante da riportare correttamente è la giusta proporzione dei lati

Se una base è i 6/5 dell'altra allora l'altra è l'intero cioè 5/5 e quindi la prima base è la maggiore

Potrei disegnare la base maggiore lunga 6 quadretti e quella minore 5 quadretti, ma siccome il trapezio è isoscele, dovrei lasciare uno spazio di mezzo quadretto a destra e a sinistra della base minore, preferisco raddoppiare le misure e quindi

$$b_1 = 12 \text{ q} \quad b_2 = 10 \text{ q} \quad h = 8 \text{ q}$$

$h = 8 \text{ q}$  è un'approssimazione, infatti  $19/20$  è molto vicino a  $20/30$  cioè l'altezza è circa i due terzi della base maggiore

ricordiamo che i dati non sempre consentono di disegnare esattamente la figura

b) Calcola l'area del trapezio.

DATI

$$b_1 = \frac{6}{5} b_2$$

$$b_1 = 30 \text{ m}$$

$$h = 19 \text{ m}$$

$$A_{\text{trap}} = ?$$

SVOLGIMENTO

$$b_2 = \frac{5}{6} b_1$$

$$UF \left( \frac{1}{5} \right) = 30 : 6 = 5 \text{ m}$$

$$b_2 \left( \frac{5}{5} \right) = 5 \cdot 5 = 25 \text{ m}$$

$$A_{\text{trap}} = \frac{(b_1 + b_2) \cdot h}{2} = \frac{(30 + 25) \cdot 19}{2} = \frac{55 \cdot 19}{2} = \frac{1045}{2} = 522,5 \text{ m}^2$$

*Commento allo svolgimento*

In questo problema sono necessari **due passaggi**:

- 1) determinare la misura della base minore  $b_2$ ;
- 2) calcolare l'area.

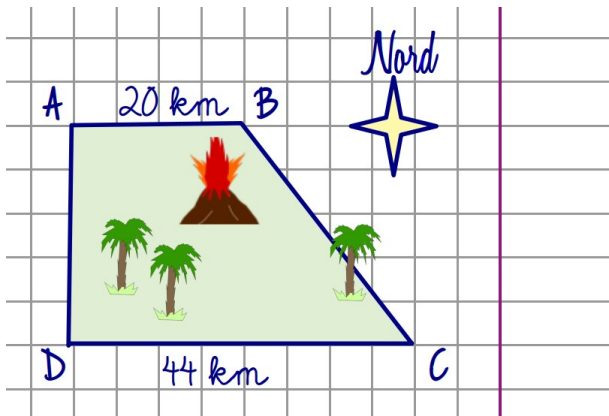
Se ho bisogno di svolgere un calcolo in colonna, lo faccio sul quaderno con ordine.

$$\begin{array}{r} 55 \times \\ 19 = \\ \hline 495 + \\ 55/ = \\ \hline 1045 \end{array}$$

**PROBLEMA 4)**

Un'isola ha la forma di un trapezio rettangolo. La superficie dell'isola è di 1728 km<sup>2</sup>. La costa nord e quella sud sono parallele e rettilinee: la prima è lunga 20 km e la seconda 44 km.

Calcola la distanza tra le due coste.



*Commento al disegno*

Il disegno non è richiesto in questo problema, tuttavia il disegno mi è utile a visualizzare i dati e mi aiuta nella soluzione.

**Rifletto:**

- in un trapezio solo le basi sono lati paralleli;
- quindi costa nord e costa sud sono rispettivamente base minore e maggiore del trapezio;
- la distanza tra le basi è il segmento perpendicolare alle basi e quindi il lato AD.

**DATI**

$A_{trap} = 1728 \text{ km}^2$

$AB = 20 \text{ km}$  (costa Nord)

$CD = 44 \text{ km}$  (costa Sud)

$AB \parallel CD$

$AD = ?$  (distanza tra le coste N e S)

*Commento ai dati*

Il simbolo // significa "parallelo a..."

**SVOLGIMENTO**

$$A_{trap} = \frac{(AB + CD) \cdot AD}{2} \rightarrow AD = \frac{2 A_{trap}}{(AB + CD)}$$

*Commento allo svolgimento*

In un trapezio rettangolo il lato perpendicolare alle basi coincide con l'altezza.

Dalla formula per determinare l'area del trapezio, ricavo la formula inversa: determino l'altezza date l'area e le basi.

$$AD = \frac{2 A_{trap}}{(AB + CD)} = \frac{2 \cdot 1728}{(20 + 44)} = \frac{1 \cdot 2 \cdot 1728}{64} =$$

$$= \frac{1728}{32} = \frac{432}{8} = \frac{108}{2} = 54 \text{ km}$$

Quando è possibile, bisogna sempre dividere prima di moltiplicare, semplificando l'espressione

**PROBLEMA 5)**

Un rombo ha il perimetro di 24 cm e le diagonali lunghe 9,6 cm e 7,2 cm.

Calcola la misura dell'altezza del rombo.

DATI

$p = 24 \text{ cm}$

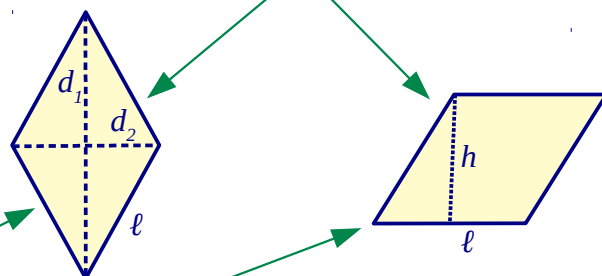
$d_1 = 9,6 \text{ cm}$

$d_2 = 7,2 \text{ cm}$

$h = ?$

SVOLGIMENTO

è lo stesso rombo



$A_{rombo} = \frac{d_1 \cdot d_2}{2}$

Commento allo svolgimento

Il rombo ha le diagonali perpendicolari e l'area di può calcolare dalle diagonali.

$A_{rombo} = l \cdot h$

Il rombo è anche un parallelogramma e quindi l'area di può calcolare avendo il lato e l'altezza.

Per risolvere il problema sono necessari **tre passaggi**:

$A = \frac{9,6 \cdot 7,2}{2} = 9,6 \cdot 3,6 = 34,56 \text{ cm}^2$

$l = \frac{p}{4} = \frac{24}{4} = 6 \text{ cm}$

$A_{rombo} = l \cdot h \rightarrow h = \frac{A}{l}$

$h = \frac{A}{l} = \frac{34,56}{6} = \frac{11,52}{2} = 5,76 \text{ cm}$

$$\begin{array}{r} 9,6 \times \\ 3,6 = \\ \hline 576 + \\ 288 / = \\ \hline 34,56 \end{array}$$

- 1) **applico** la prima formula direttamente e **calcolo** l'area dalle diagonali;
- 2) **calcolo** il lato  $l$  dal perimetro;
- 3) **applico** la seconda formula all'inverso e **calcolo** l'altezza del rombo

Se ho bisogno di svolgere un calcolo in colonna, lo faccio sul quaderno con ordine.

**Rifletto:**

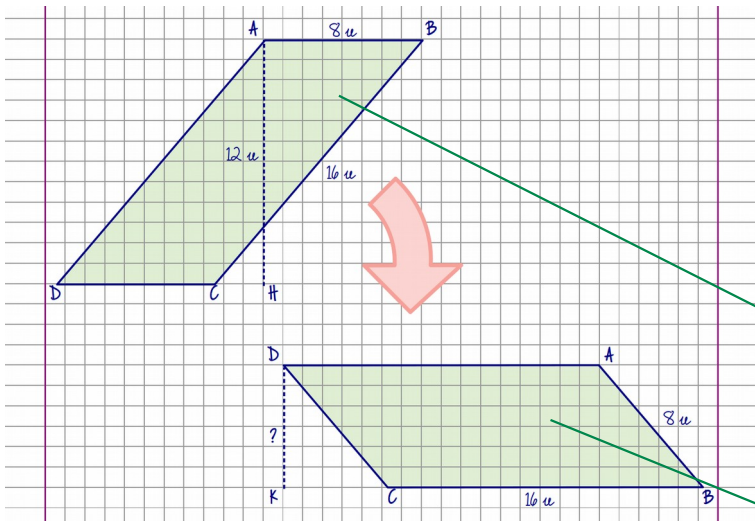
le divisioni scritte come frazioni rendono evidente la possibilità di ridurre i termini (se possibile);  
in questo caso si possono ridurre i termini dividendo numeratore e denominatore per 3.

**PROBLEMA 6)**

In un parallelogramma ABCD il lato AB misura  $8 u$ , il lato BC misura  $16 u$  e l'altezza AH misura  $12 u$  (AH è l'altezza relativa ad AB).

Determina la misura dell'altezza DK, relativa al lato BC.

(NOTA BENE:  $u$  sono unità convenzionali)



**Commento al disegno**

Nei parallelogrammi c'è un'altezza relativa al lato maggiore e un'altra altezza relativa al lato maggiore.

Il disegno non è richiesto in questo problema, tuttavia un disegno mi è utile a visualizzare i dati e ad indirizzarmi alla soluzione.

Questo problema assomiglia al precedente sul rombo per il fatto che anche nel parallelogramma l'area può essere determinata in due modi:

- 1)  $A_{\text{parall}} = AB \cdot AH$  se consideriamo AB come base (parallelogramma appoggiato sul lato corto)
- 2)  $A_{\text{parall}} = BC \cdot DK$  se consideriamo BC come base (parallelogramma appoggiato sul lato lungo)

**DATI**

- $AB = 8 u$
- $BC = 16 u$
- $AH = 12 u$
- $DK = ?$

**SVOLGIMENTO**

$$A_{\text{parall}} = AB \cdot AH = 8 \cdot 12 = 96 u^2$$

$$DK = \frac{A_{\text{parall}}}{BC} = \frac{96}{16} = 6 u$$

**Commento allo svolgimento**

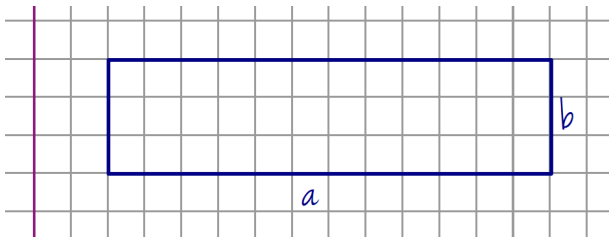
In questo problema sono necessari **due passaggi**:

- 1) **applico** la prima formula direttamente e **calcolo** l'area considerando AB come base;
- 2) **applico** la seconda formula all'inverso e **calcolo** l'altezza considerando BC come base.

**PROBLEMA 7)**

L'area di una piazza rettangolare è 7744 m<sup>2</sup>. Un lato della piazza è lungo 4 volte l'altro.

a) Disegna la figura.



*Commento al disegno*

Nel disegnare il rettangolo, l'unica condizione da rispettare è quella che il lato maggiore sia quattro volte il minore, per esempio se il lato minore è lungo tre quadretti (*q*) allora il maggiore sarà  $3 \cdot 4 = 12 \text{ } q$

b) Calcola il perimetro della piazza.

**DATI**

$$A_{\text{rettangolo}} = 7744 \text{ m}^2$$

$$a = 4b$$

**SVOLGIMENTO**

$$A_Q = 4A_{\text{rettangolo}}$$

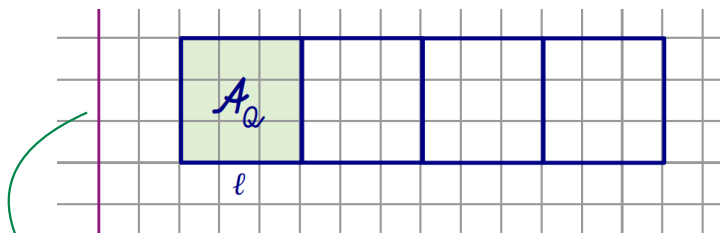
$$A_Q = \frac{7744}{4} = 1936 \text{ m}^2$$

$$\ell = \sqrt{A_Q} = \sqrt{1936} = 44 \text{ m}$$

$$b = \ell = 44 \text{ m}$$

$$a = 4\ell = 44 \cdot 4 = 176 \text{ m}$$

$$p = 2(a + b) = 2 \cdot (44 + 176) = 2 \cdot 220 = 440 \text{ m}$$



*Commento allo svolgimento*

Questo problema appartiene alla categoria dei problemi che si risolvono dividendo la figura in quadrati uguali

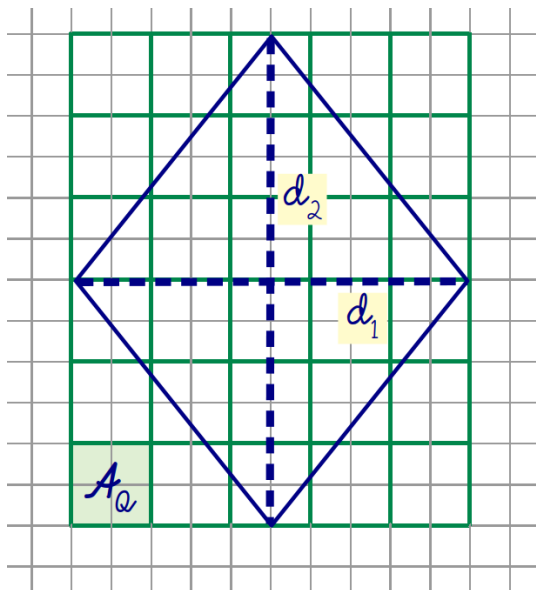
Si risolve in **4 passaggi**:

- 1) calcolo l'area di ciascuno dei 4 quadrati uguali in cui si può suddividere la figura
- 2) calcolo il lato  $\ell$  del quadrato
- 3) calcolo le dimensioni  $a$  e  $b$  del rettangolo
- 4) calcolo il perimetro

**PROBLEMA 8)**

L'area di un rombo è 18,15 ha e una diagonale è i 5/6 dell'altra.

Calcola la misura delle diagonali.



*Commento al disegno*

Il disegno non è richiesto in questo problema, è comunque preferibile fare un disegno per visualizzare i dati e aiutarmi nella soluzione.

Nel rispettare la proporzione 5/6 ho preferito considerare una lunghezza delle diagonali di 12 q e 10 q perché le diagonali si incontrano a metà e i numeri pari facilitano l'uso della quadrettatura

Anche questo problema, come il precedente, appartiene alla categoria dei problemi che si risolvono dividendo la figura in quadrati uguali.

La differenza rispetto al problema precedente è che la figura non è un rettangolo ma un rombo.

L'area del rombo è **la metà** di quella del rettangolo in cui è inscritto.

**DATI**

$$A_{rombo} = 18,15 \text{ ha}$$

$$d_1 = \frac{5}{6} d_2$$

*Commento ai dati*

**ha** è il simbolo dell'ettaro, un'unità di misura molto usata per indicare l'estensione dei terreni;

un ettaro è pari all'area di un quadrato di 100 m (1 hm) di e quindi:

$$1 \text{ ha} \equiv 1 \text{ hm}^2$$

**SVOLGIMENTO**

$$A_{rettangolo} = 2A_{rombo} = 2 \cdot 18,15 = 36,3 \text{ ha}$$

$$A_Q = A_{rettangolo} : 30 = \frac{36,3}{30} = 1,21 \text{ ha}$$

$$1,21 \text{ ha} \equiv 1,21 \text{ hm}^2 \equiv 121 \text{ dam}^2$$

$$\ell = \sqrt{A_Q} = \sqrt{121} = 11 \text{ dam} \equiv 110 \text{ m}$$

$$d_1 = 110 \cdot 5 = 550 \text{ m}$$

$$d_2 = 110 \cdot 6 = 660 \text{ m}$$

*Commento allo svolgimento*

Si risolve in **4 passaggi**:

- 1) calcolo l'area del rettangolo che è il **doppio** di quella del rombo
- 2) calcolo l'area  $A_Q$  di ciascuno dei 30 quadrati uguali in cui si può suddividere la figura;
- 3) calcolo il lato  $\ell$  del quadrato;
- 4) calcolo le diagonali  $d_1$  e  $d_2$  del rombo.