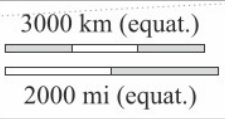


© d-maps.com



LOCALITÀ	NUM	LAT
Venezia	1	45° N
Bacino del Congo	32	0°
Isole Crozet	65	45° S
Golfo Persico	15	25° N
Madagascar	58	20° S
Golfo del Bengala	31	20° N
Isole Seychelles	54	5° S
Singapore	33	1° N

LOCALITÀ	NUM	LAT
Dacca	62	23° N
Deserto del Gobi	80	42° N
Kampala	84	0°
Delta del Mississippi	12	30° N
Corno d'Africa	67	12° N
Honolulu	51	23° N
Hokkaido	77	45° N
L'Avana	81	23° N

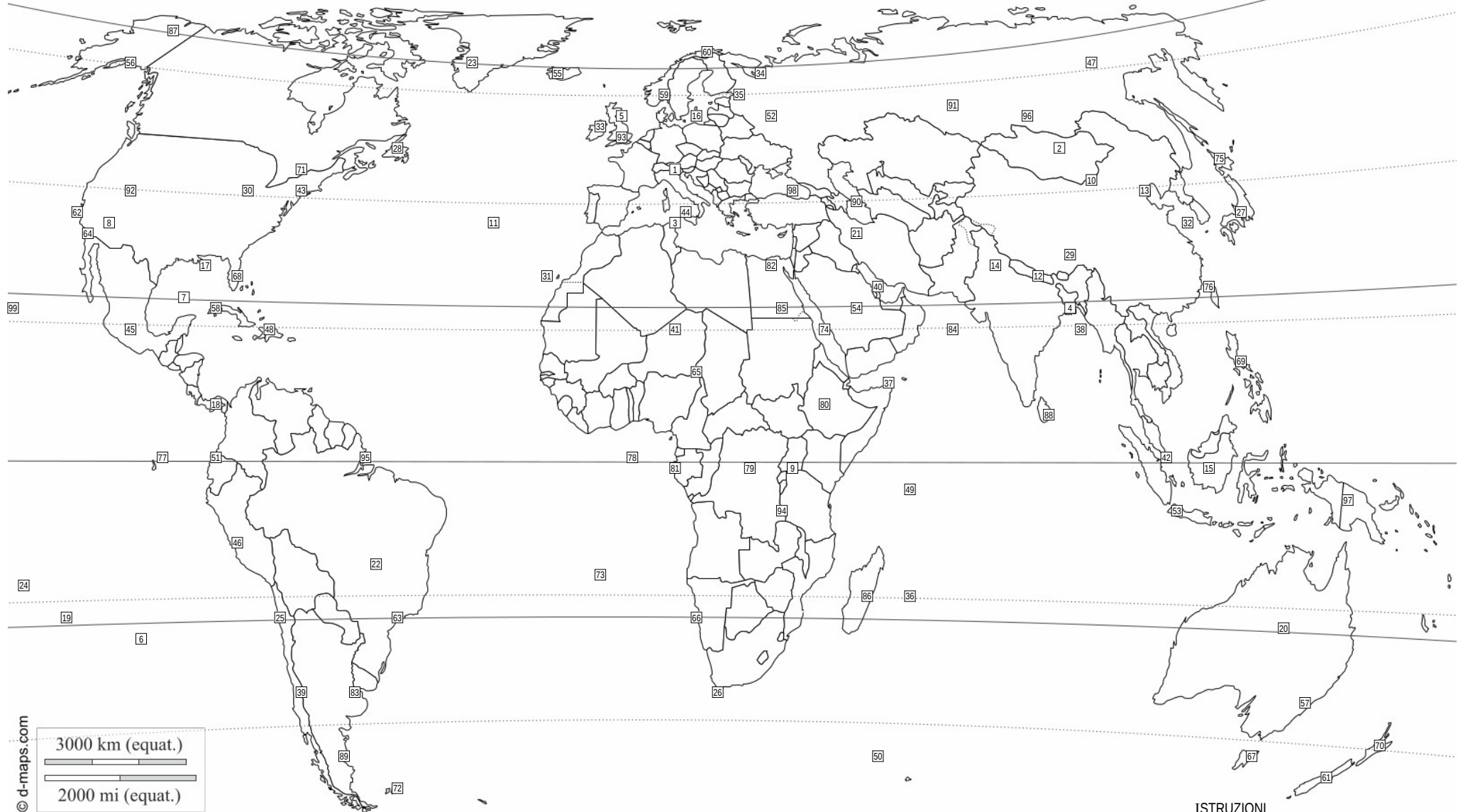
LOCALITÀ	NUM	LAT
Comodoro	64	45° S
Fort Yukon	14	67° N
Tasmania	96	42° S
Assuan	7	23° N
Ottawa	11	45° N
Alice Springs	30	23° S
Groenlandia	86	67° N
Quito	43	0°

LOCALITÀ	NUM	LAT
Mosca	83	56° N
Edimburgo	74	56° N
San Paolo	49	23° S
Chicago	2	42° N
Isola Maurizio	44	20° S
Filippine	91	15° N
Isola del Sud	19	45° S
Islanda	59	64° N

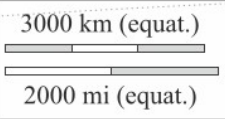
LOCALITÀ	NUM	LAT
Hammerfest	24	71° N
Golfo del Messico	52	23° N
Isole Eolie	93	38° N
Mar Baltico	48	56° N
Mar Caspio	22	40° N
Walvis Bay	3	23° S

**ISTRUZIONI**

- Sulla mappa ci sono 99 località numerate
- Identifica sulla mappa il numero che rappresenta la posizione di ciascuna delle 38 località elencate nella tabella.
- Scrivi i numeri corrispondenti a fianco dei nomi, nella colonna NUM.
- Nella colonna LAT, scrivi la latitudine in gradi (fai una stima basandoti sui paralleli tracciati sulla mappa).
- Per le località su aree molto vaste la latitudine da scrivere è quella del punto in cui è posizionato il numero.



© d-maps.com



LOCALITÀ	NUM	LAT
Venezia	1	45° N
Honolulu	99	23° N
Deserto del Gobi	10	42° N
Isole Seychelles	49	5° S
Assuan	85	23° N
Golfo del Messico	7	23° N
Ottawa	71	45° N
Mosca	52	56° N

LOCALITÀ	NUM	LAT
Groenlandia	23	67° N
Madagascar	86	20° S
Corno d'Africa	37	12° N
Isola del Sud	61	45° S
Hokkaido	75	45° N
Mar Caspio	90	40° N
Hammerfest	60	71° N
Isola Maurizio	36	20° S

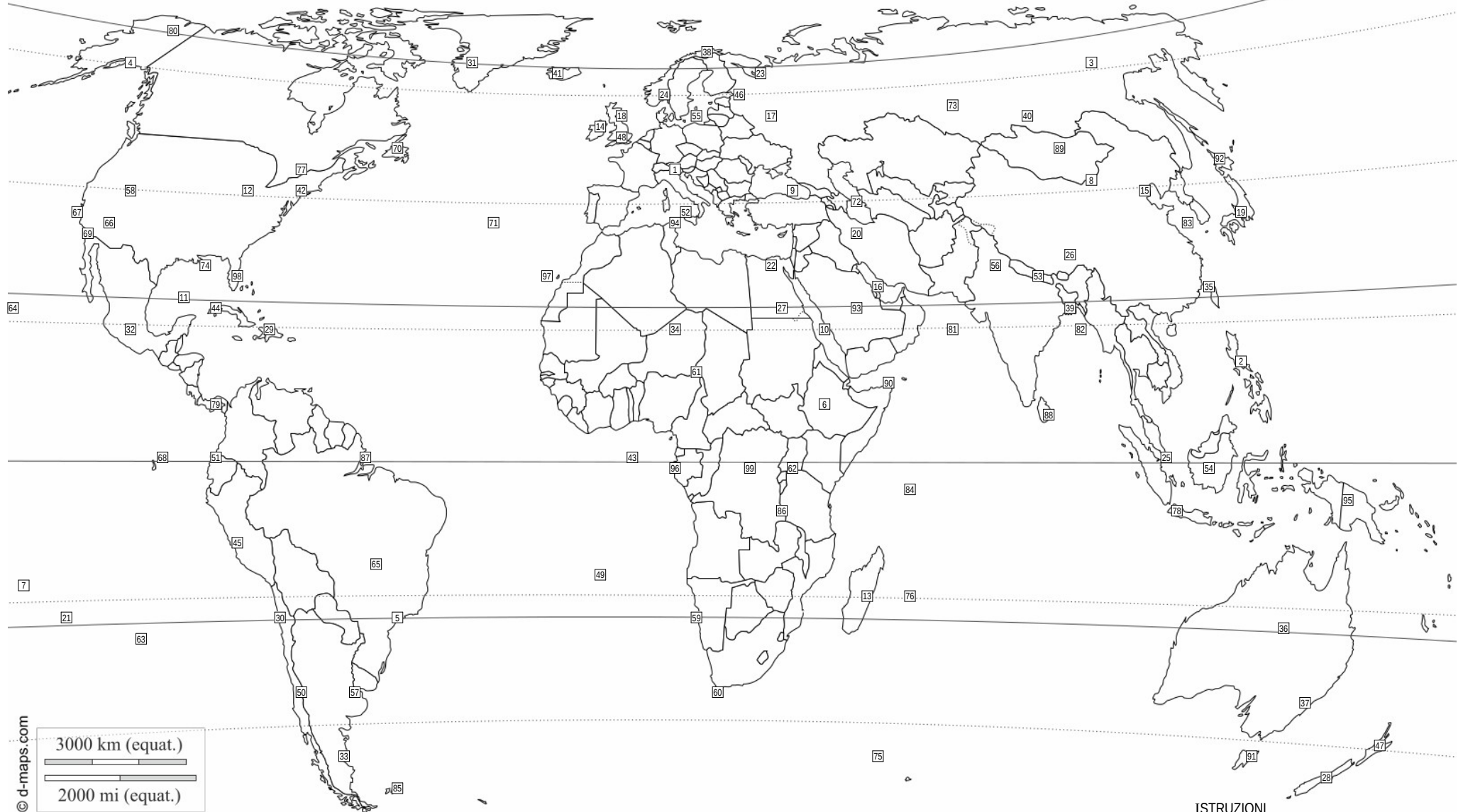
LOCALITÀ	NUM	LAT
Quito	51	0°
Golfo Persico	40	25° N
Islanda	55	64° N
Alice Springs	20	23° S
Tasmania	67	42° S
Isole Eolie	44	38° N
Isole Crozet	50	45° S
Golfo del Bengala	38	20° N

LOCALITÀ	NUM	LAT
Edimburgo	5	56° N
Delta del Mississippi	17	30° N
Chicago	30	42° N
Singapore	42	1° N
Dacca	4	23° N
San Paolo	63	23° S
Bacino del Congo	79	0°
Kampala	9	0°

LOCALITÀ	NUM	LAT
Mar Baltico	16	56° N
L'Avana	58	23° N
Fort Yukon	87	67° N
Walvis Bay	66	23° S
Comodoro	89	45° S
Filippine	69	15° N

**ISTRUZIONI**

- Sulla mappa ci sono 99 località numerate
- Identifica sulla mappa il numero che rappresenta la posizione di ciascuna delle 38 località elencate nella tabella.
- Scrivi i numeri corrispondenti a fianco dei nomi, nella colonna NUM.
- Nella colonna LAT, scrivi la latitudine in gradi (fai una stima basandoti sui paralleli tracciati sulla mappa).
- Per le località su aree molto vaste la latitudine da scrivere è quella del punto in cui è posizionato il numero.



© d-maps.com

LOCALITÀ	NUM	LAT
Venezia	1	45° N
Hammerfest	38	71° N
Isola del Sud	28	45° S
Delta del Mississippi	74	30° N
Fort Yukon	80	67° N
Kampala	62	0°
Groenlandia	31	67° N
Dacca	39	23° N

LOCALITÀ	NUM	LAT
Golfo del Messico	11	23° N
Isole Seychelles	84	5° S
Isole Eolie	52	38° N
Assuan	27	23° N
Golfo Persico	16	25° N
Madagascar	13	20° S
Deserto del Gobi	8	42° N
Bacino del Congo	99	0°

LOCALITÀ	NUM	LAT
Walvis Bay	59	23° S
Quito	51	0°
Mar Baltico	55	56° N
Golfo del Bengala	82	20° N
Chicago	12	42° N
Filippine	2	15° N
Isola Maurizio	76	20° S
Comodoro	33	45° S

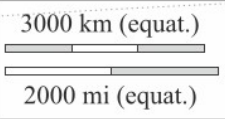
LOCALITÀ	NUM	LAT
Alice Springs	36	23° S
L'Avana	44	23° N
Edimburgo	18	56° N
Singapore	25	1° N
Hokkaido	92	45° N
Mosca	17	56° N
Mar Caspio	72	40° N
Islanda	41	64° N

LOCALITÀ	NUM	LAT
Tasmania	91	42° S
San Paolo	5	23° S
Isole Crozet	75	45° S
Honolulu	64	23° N
Corno d'Africa	90	12° N
Ottawa	77	45° N

- ISTRUZIONI**
- Sulla mappa ci sono 99 località numerate
  - Identifica sulla mappa il numero che rappresenta la posizione di ciascuna delle 38 località elencate nella tabella.
  - Scrivi i numeri corrispondenti a fianco dei nomi, nella colonna NUM.
  - Nella colonna LAT, scrivi la latitudine in gradi (fai una stima basandoti sui paralleli tracciati sulla mappa).
  - Per le località su aree molto vaste la latitudine da scrivere è quella del punto in cui è posizionato il numero.



© d-maps.com



LOCALITÀ	NUM	LAT
Venezia	1	45° N
Walvis Bay	31	23° S
Tasmania	37	42° S
Isole Eolie	91	38° N
Madagascar	54	20° S
Deserto del Gobi	19	42° N
Bacino del Congo	73	0°
Singapore	85	1° N

LOCALITÀ	NUM	LAT
Mar Caspio	56	40° N
Delta del Mississippi	78	30° N
Filippine	18	15° N
Golfo del Messico	38	23° N
Isole Seychelles	40	5° S
Groenlandia	3	67° N
L'Avana	22	23° N
Alice Springs	93	23° S

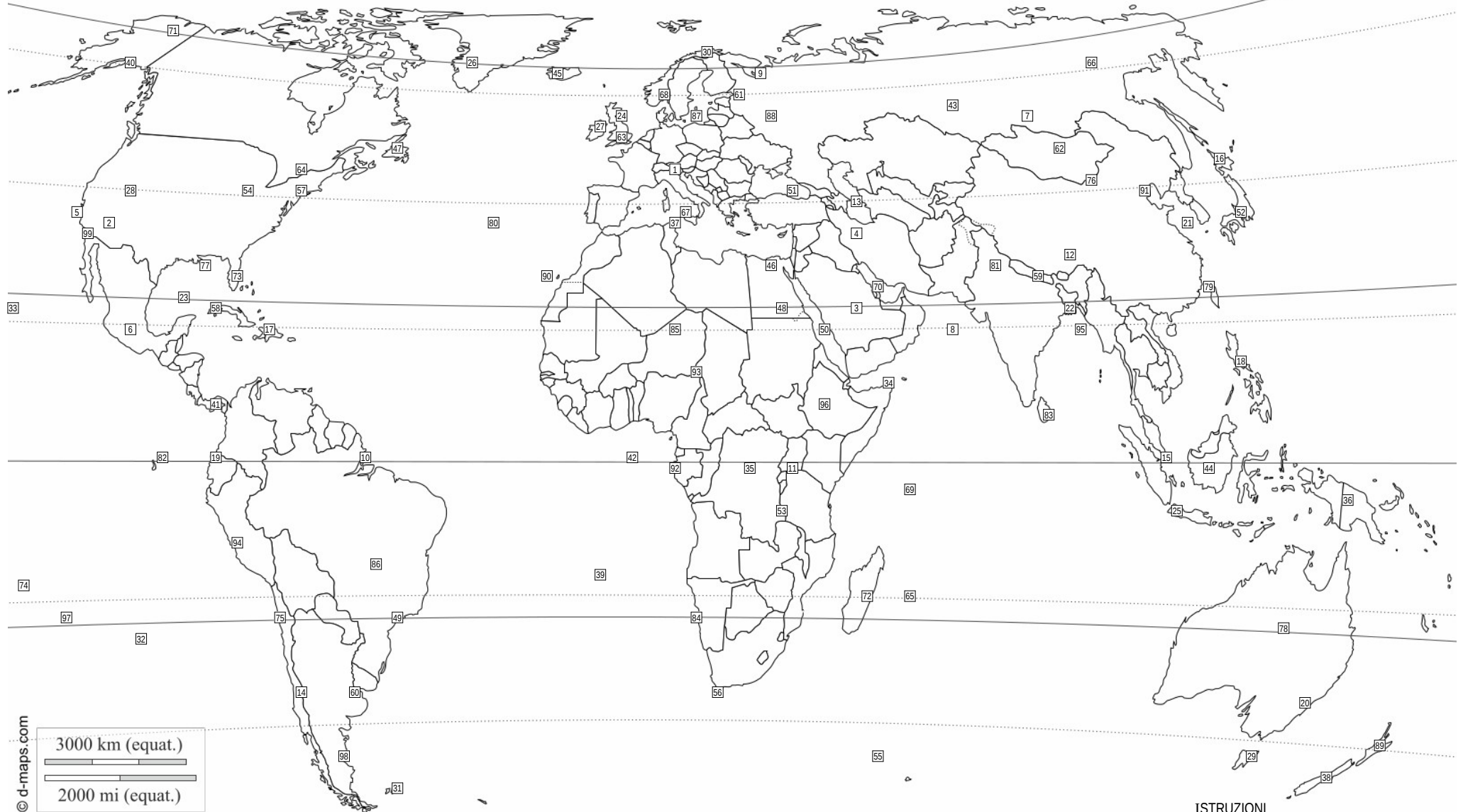
LOCALITÀ	NUM	LAT
Assuan	17	23° N
Islanda	61	64° N
Isola Maurizio	27	20° S
Chicago	98	42° N
Hokkaido	15	45° N
Isola del Sud	28	45° S
Fort Yukon	99	67° N
Golfo Persico	90	25° N

LOCALITÀ	NUM	LAT
Golfo del Bengala	33	20° N
Quito	14	0°
Ottawa	29	45° N
Mosca	64	56° N
Comodoro	50	45° S
Dacca	41	23° N
Hammerfest	69	71° N
Edimburgo	32	56° N

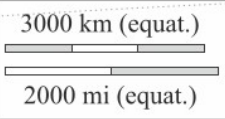
LOCALITÀ	NUM	LAT
Honolulu	23	23° N
Mar Baltico	45	56° N
Corno d'Africa	25	12° N
Kampala	47	0°
San Paolo	49	23° S
Isole Crozet	12	45° S

**ISTRUZIONI**

- Sulla mappa ci sono 99 località numerate
- Identifica sulla mappa il numero che rappresenta la posizione di ciascuna delle 38 località elencate nella tabella.
- Scrivi i numeri corrispondenti a fianco dei nomi, nella colonna NUM.
- Nella colonna LAT, scrivi la latitudine in gradi (fai una stima basandoti sui paralleli tracciati sulla mappa).
- Per le località su aree molto vaste la latitudine da scrivere è quella del punto in cui è posizionato il numero.



© d-maps.com



LOCALITÀ	NUM	LAT
Venezia	1	45° N
Ottawa	64	45° N
Honolulu	33	23° N
Hokkaido	16	45° N
Isole Crozet	55	45° S
Chicago	54	42° N
Dacca	22	23° N
Walvis Bay	84	23° S

LOCALITÀ	NUM	LAT
Fort Yukon	71	67° N
Singapore	15	1° N
Edimburgo	24	56° N
Isola del Sud	38	45° S
Deserto del Gobi	76	42° N
Hammerfest	30	71° N
Quito	19	0°
Mosca	88	56° N

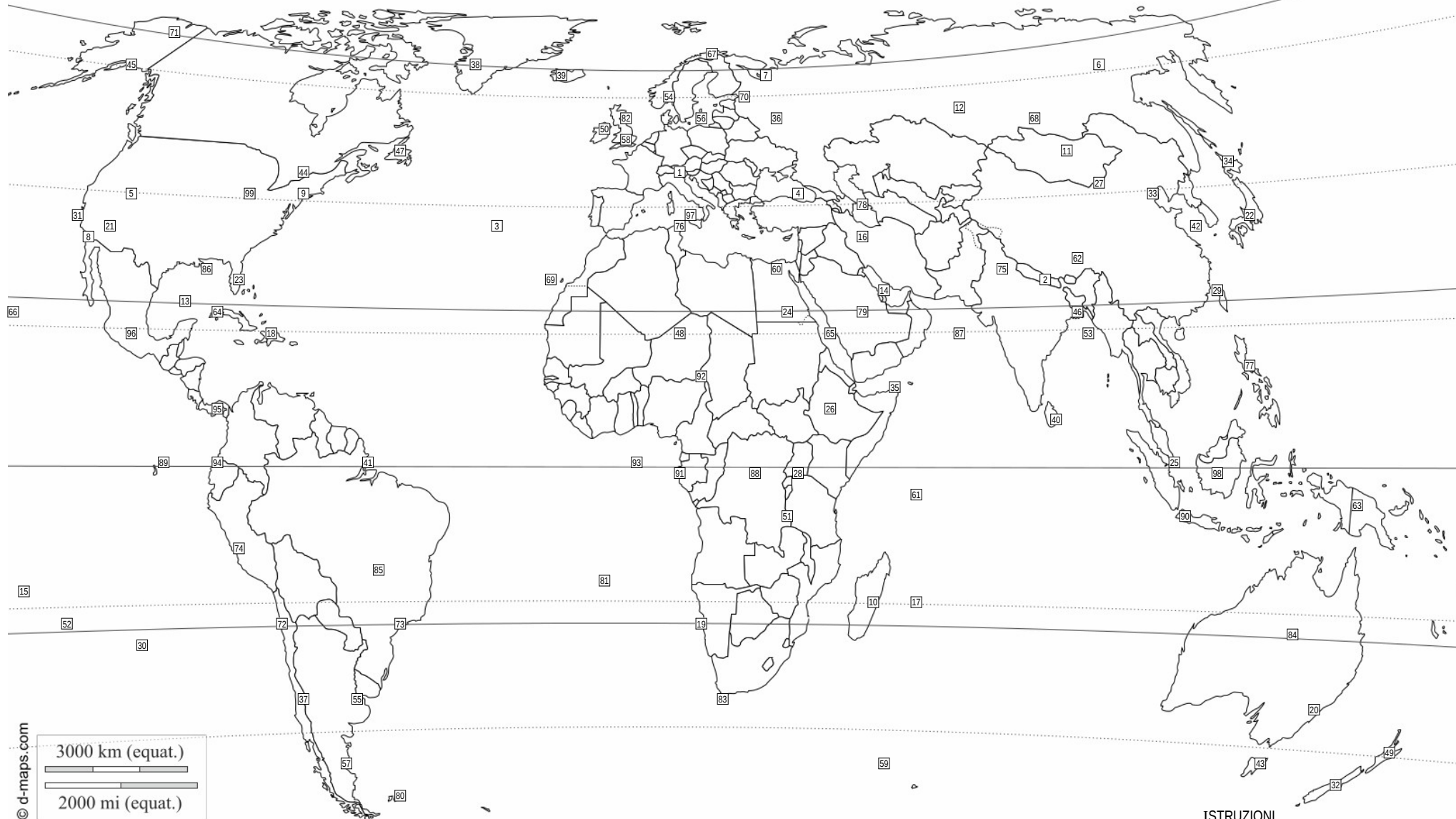
LOCALITÀ	NUM	LAT
Isole Seychelles	69	5° S
L'Avana	58	23° N
Kampala	11	0°
Alice Springs	78	23° S
Islanda	45	64° N
Corno d'Africa	34	12° N
Comodoro	98	45° S
Bacino del Congo	35	0°

LOCALITÀ	NUM	LAT
Assuan	48	23° N
Groenlandia	26	67° N
Golfo del Messico	23	23° N
Isola Maurizio	65	20° S
Mar Baltico	87	56° N
Golfo del Bengala	95	20° N
San Paolo	49	23° S
Golfo Persico	70	25° N

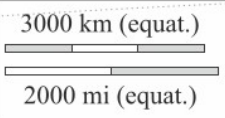
LOCALITÀ	NUM	LAT
Delta del Mississippi	77	30° N
Madagascar	72	20° S
Filippine	18	15° N
Isole Eolie	67	38° N
Tasmania	29	42° S
Mar Caspio	13	40° N

**ISTRUZIONI**

- Sulla mappa ci sono 99 località numerate
- Identifica sulla mappa il numero che rappresenta la posizione di ciascuna delle 38 località elencate nella tabella.
- Scrivi i numeri corrispondenti a fianco dei nomi, nella colonna NUM.
- Nella colonna LAT, scrivi la latitudine in gradi (fai una stima basandoti sui paralleli tracciati sulla mappa).
- Per le località su aree molto vaste la latitudine da scrivere è quella del punto in cui è posizionato il numero.



© d-maps.com



LOCALITÀ	NUM	LAT
Venezia	1	45° N
Islanda	39	64° N
Deserto del Gobi	27	42° N
Madagascar	10	20° S
Corno d'Africa	35	12° N
Tasmania	43	42° S
Golfo Persico	14	25° N
Mar Baltico	56	56° N

LOCALITÀ	NUM	LAT
Isole Seychelles	61	5° S
Isole Crozet	59	45° S
Isole Eolie	97	38° N
Walvis Bay	19	23° S
Golfo del Bengala	53	20° N
Assuan	24	23° N
Isola Maurizio	17	20° S
Quito	94	0°

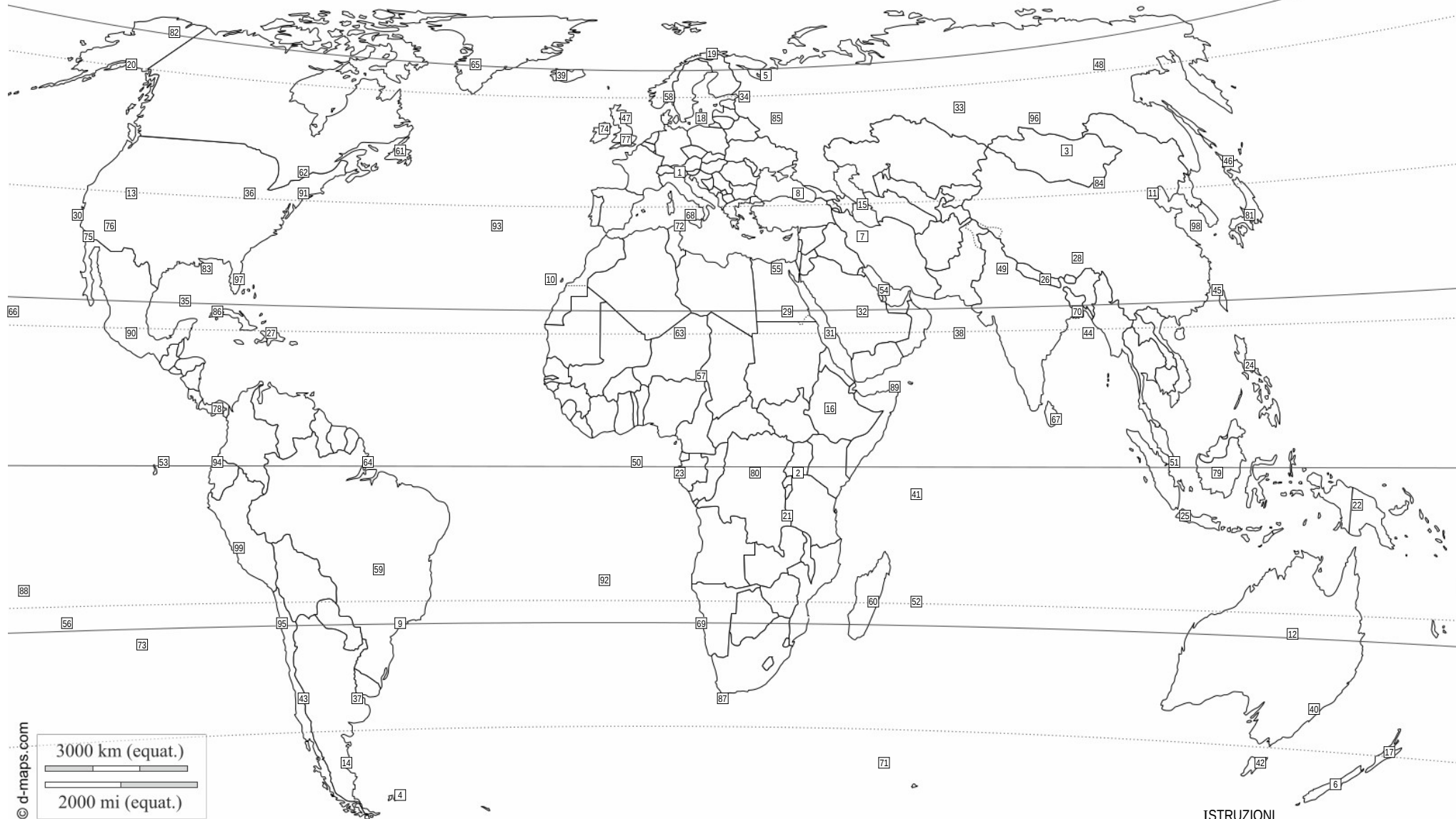
LOCALITÀ	NUM	LAT
Hokkaido	34	45° N
Alice Springs	84	23° S
Singapore	25	1° N
San Paolo	73	23° S
Honolulu	66	23° N
Mar Caspio	78	40° N
Dacca	46	23° N
Ottawa	44	45° N

LOCALITÀ	NUM	LAT
Golfo del Messico	13	23° N
Hammerfest	67	71° N
L'Avana	64	23° N
Kampala	28	0°
Fort Yukon	71	67° N
Comodoro	57	45° S
Groenlandia	38	67° N
Mosca	36	56° N

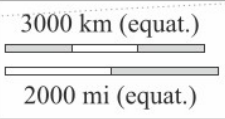
LOCALITÀ	NUM	LAT
Delta del Mississippi	86	30° N
Isola del Sud	32	45° S
Chicago	99	42° N
Bacino del Congo	88	0°
Filippine	77	15° N
Edimburgo	82	56° N

**ISTRUZIONI**

- Sulla mappa ci sono 99 località numerate
- Identifica sulla mappa il numero che rappresenta la posizione di ciascuna delle 38 località elencate nella tabella.
- Scrivi i numeri corrispondenti a fianco dei nomi, nella colonna NUM.
- Nella colonna LAT, scrivi la latitudine in gradi (fai una stima basandoti sui paralleli tracciati sulla mappa).
- Per le località su aree molto vaste la latitudine da scrivere è quella del punto in cui è posizionato il numero.



© d-maps.com



LOCALITÀ	NUM	LAT
Venezia	1	45° N
Isole Eolie	68	38° N
Delta del Mississippi	83	30° N
L'Avana	86	23° N
Comodoro	14	45° S
San Paolo	9	23° S
Alice Springs	12	23° S
Tasmania	42	42° S

LOCALITÀ	NUM	LAT
Edimburgo	47	56° N
Mar Baltico	18	56° N
Singapore	51	1° N
Golfo del Messico	35	23° N
Isola Maurizio	52	20° S
Ottawa	62	45° N
Honolulu	66	23° N
Mosca	85	56° N

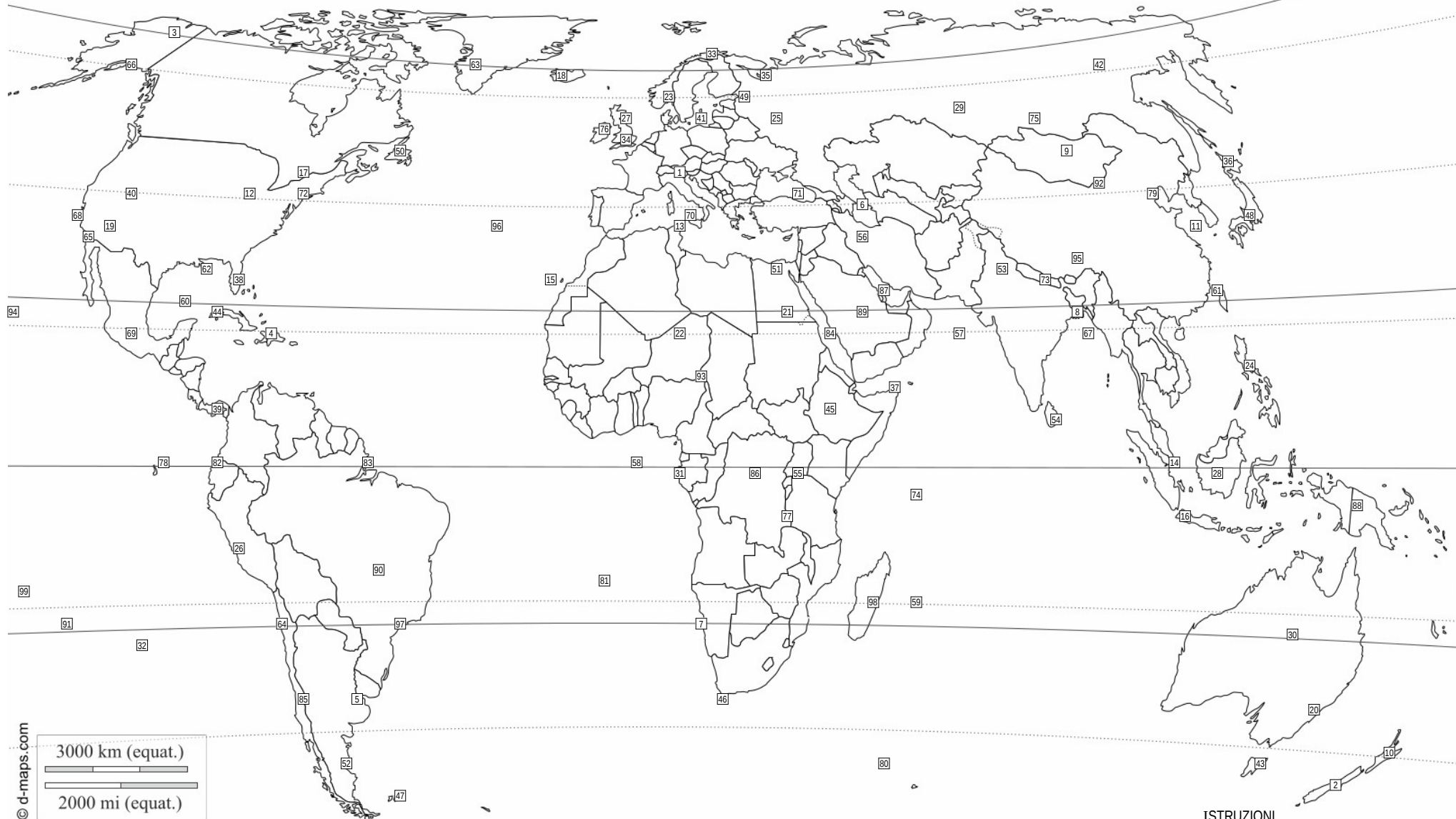
LOCALITÀ	NUM	LAT
Madagascar	60	20° S
Fort Yukon	82	67° N
Groenlandia	65	67° N
Corno d'Africa	89	12° N
Isole Seychelles	41	5° S
Bacino del Congo	80	0°
Kampala	2	0°
Filippine	24	15° N

LOCALITÀ	NUM	LAT
Islanda	39	64° N
Deserto del Gobi	84	42° N
Walvis Bay	69	23° S
Golfo Persico	54	25° N
Hokkaido	46	45° N
Mar Caspio	15	40° N
Assuan	29	23° N
Golfo del Bengala	44	20° N

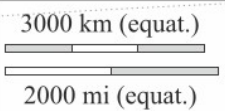
LOCALITÀ	NUM	LAT
Isola del Sud	6	45° S
Chicago	36	42° N
Isole Crozet	71	45° S
Hammerfest	19	71° N
Dacca	70	23° N
Quito	94	0°

**ISTRUZIONI**

- Sulla mappa ci sono 99 località numerate
- Identifica sulla mappa il numero che rappresenta la posizione di ciascuna delle 38 località elencate nella tabella.
- Scrivi i numeri corrispondenti a fianco dei nomi, nella colonna NUM.
- Nella colonna LAT, scrivi la latitudine in gradi (fai una stima basandoti sui paralleli tracciati sulla mappa).
- Per le località su aree molto vaste la latitudine da scrivere è quella del punto in cui è posizionato il numero.



© d-maps.com



LOCALITÀ	NUM	LAT
Venezia	1	45° N
Isole Eolie	70	38° N
Golfo Persico	87	25° N
Fort Yukon	3	67° N
Mar Baltico	41	56° N
Filippine	24	15° N
Isole Crozet	80	45° S
Comodoro	52	45° S

LOCALITÀ	NUM	LAT
Alice Springs	30	23° S
Corno d'Africa	37	12° N
Deserto del Gobi	92	42° N
Groenlandia	63	67° N
Hokkaido	36	45° N
Golfo del Bengala	67	20° N
Isola Maurizio	59	20° S
Hammerfest	33	71° N

LOCALITÀ	NUM	LAT
Dacca	8	23° N
Honolulu	94	23° N
L'Avana	44	23° N
Walvis Bay	7	23° S
Isola del Sud	2	45° S
San Paolo	97	23° S
Tasmania	43	42° S
Islanda	18	64° N

LOCALITÀ	NUM	LAT
Mosca	25	56° N
Quito	82	0°
Singapore	14	1° N
Kampala	55	0°
Bacino del Congo	86	0°
Delta del Mississippi	62	30° N
Edimburgo	27	56° N
Ottawa	17	45° N

LOCALITÀ	NUM	LAT
Isole Seychelles	74	5° S
Chicago	12	42° N
Mar Caspio	6	40° N
Golfo del Messico	60	23° N
Madagascar	98	20° S
Assuan	21	23° N

**ISTRUZIONI**

- Sulla mappa ci sono 99 località numerate
- Identifica sulla mappa il numero che rappresenta la posizione di ciascuna delle 38 località elencate nella tabella.
- Scrivi i numeri corrispondenti a fianco dei nomi, nella colonna NUM.
- Nella colonna LAT, scrivi la latitudine in gradi (fai una stima basandoti sui paralleli tracciati sulla mappa).
- Per le località su aree molto vaste la latitudine da scrivere è quella del punto in cui è posizionato il numero.





© d-maps.com

LOCALITÀ	NUM	LAT
Venezia	1	45° N
Isole Eolie	11	38° N
Delta del Mississippi	66	30° N
Madagascar	39	20° S
Comodoro	54	45° S
Filippine	14	15° N
Isola Maurizio	4	20° S
Ottawa	64	45° N

LOCALITÀ	NUM	LAT
Isole Seychelles	31	5° S
Isola del Sud	95	45° S
Deserto del Gobi	77	42° N
Islanda	18	64° N
Isole Crozet	50	45° S
Hokkaido	24	45° N
Golfo Persico	73	25° N
Chicago	75	42° N

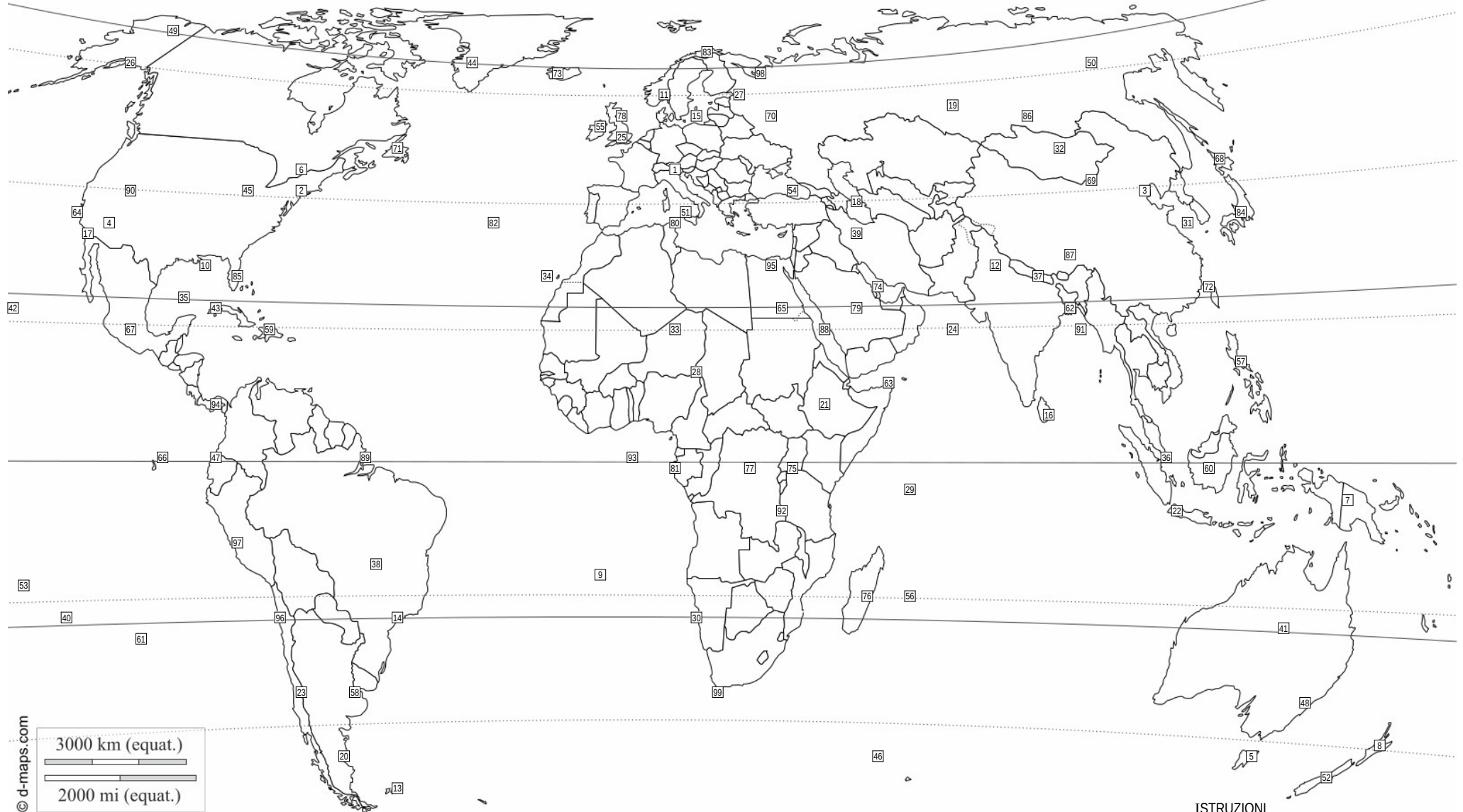
LOCALITÀ	NUM	LAT
Tasmania	25	42° S
L'Avana	10	23° N
Kampala	35	0°
Groenlandia	27	67° N
Dacca	88	23° N
Hammerfest	26	71° N
Mosca	87	56° N
San Paolo	58	23° S

LOCALITÀ	NUM	LAT
Mar Caspio	8	40° N
Walvis Bay	92	23° S
Honolulu	71	23° N
Bacino del Congo	67	0°
Alice Springs	12	23° S
Edimburgo	69	56° N
Quito	85	0°
Assuan	42	23° N

LOCALITÀ	NUM	LAT
Singapore	97	1° N
Mar Baltico	47	56° N
Fort Yukon	5	67° N
Golfo del Bengala	53	20° N
Corno d'Africa	30	12° N
Golfo del Messico	68	23° N

**ISTRUZIONI**

- Sulla mappa ci sono 99 località numerate
- Identifica sulla mappa il numero che rappresenta la posizione di ciascuna delle 38 località elencate nella tabella.
- Scrivi i numeri corrispondenti a fianco dei nomi, nella colonna NUM.
- Nella colonna LAT, scrivi la latitudine in gradi (fai una stima basandoti sui paralleli tracciati sulla mappa).
- Per le località su aree molto vaste la latitudine da scrivere è quella del punto in cui è posizionato il numero.



© d-maps.com

LOCALITÀ	NUM	LAT
Venezia	1	45° N
Golfo del Bengala	91	20° N
Filippine	57	15° N
Assuan	65	23° N
Dacca	62	23° N
Singapore	36	1° N
Ottawa	6	45° N
Edimburgo	78	56° N

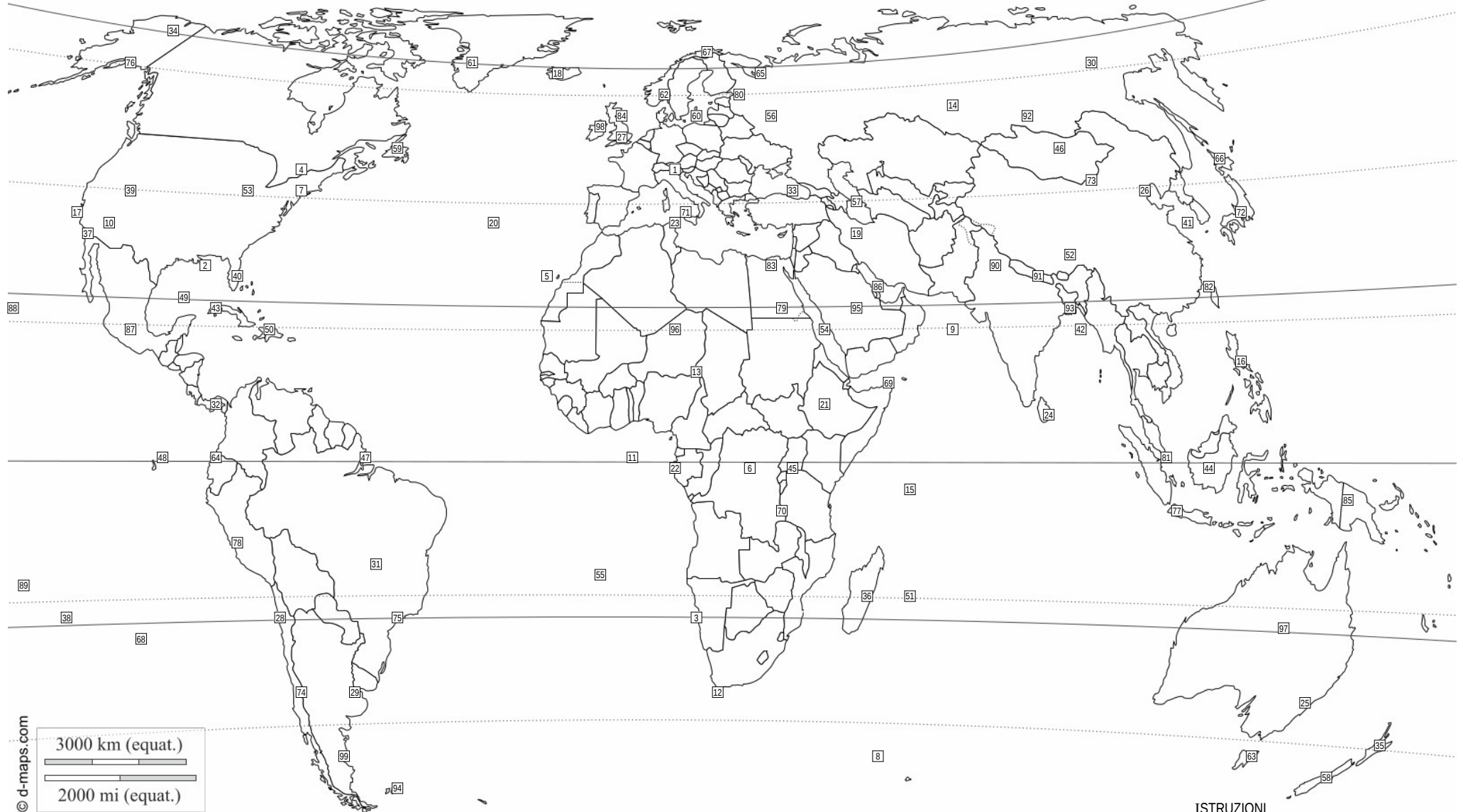
LOCALITÀ	NUM	LAT
Hokkaido	68	45° N
Mar Caspio	18	40° N
Bacino del Congo	77	0°
Alice Springs	41	23° S
Groenlandia	44	67° N
Tasmania	5	42° S
Mar Baltico	15	56° N
Mosca	70	56° N

LOCALITÀ	NUM	LAT
Comodoro	20	45° S
San Paolo	14	23° S
Deserto del Gobi	69	42° N
Isola del Sud	52	45° S
L'Avana	43	23° N
Honolulu	42	23° N
Kampala	75	0°
Walvis Bay	30	23° S

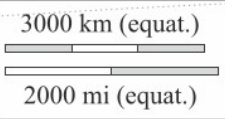
LOCALITÀ	NUM	LAT
Isola Maurizio	56	20° S
Isole Seychelles	29	5° S
Isole Eolie	51	38° N
Madagascar	76	20° S
Quito	47	0°
Hammerfest	83	71° N
Corno d'Africa	63	12° N
Fort Yukon	49	67° N

LOCALITÀ	NUM	LAT
Golfo Persico	74	25° N
Isole Crozet	46	45° S
Golfo del Messico	35	23° N
Chicago	45	42° N
Islanda	73	64° N
Delta del Mississippi	10	30° N

- ISTRUZIONI**
- Sulla mappa ci sono 99 località numerate
  - Identifica sulla mappa il numero che rappresenta la posizione di ciascuna delle 38 località elencate nella tabella.
  - Scrivi i numeri corrispondenti a fianco dei nomi, nella colonna NUM.
  - Nella colonna LAT, scrivi la latitudine in gradi (fai una stima basandoti sui paralleli tracciati sulla mappa).
  - Per le località su aree molto vaste la latitudine da scrivere è quella del punto in cui è posizionato il numero.



© d-maps.com



LOCALITÀ	NUM	LAT
Venezia	1	45° N
Corno d'Africa	69	12° N
Bacino del Congo	6	0°
Isole Crozet	8	45° S
Kampala	45	0°
Mosca	56	56° N
Singapore	81	1° N
Isole Eolie	71	38° N

LOCALITÀ	NUM	LAT
Honolulu	88	23° N
Assuan	79	23° N
Dacca	93	23° N
Hammerfest	67	71° N
San Paolo	75	23° S
Golfo Persico	86	25° N
Chicago	53	42° N
L'Avana	43	23° N

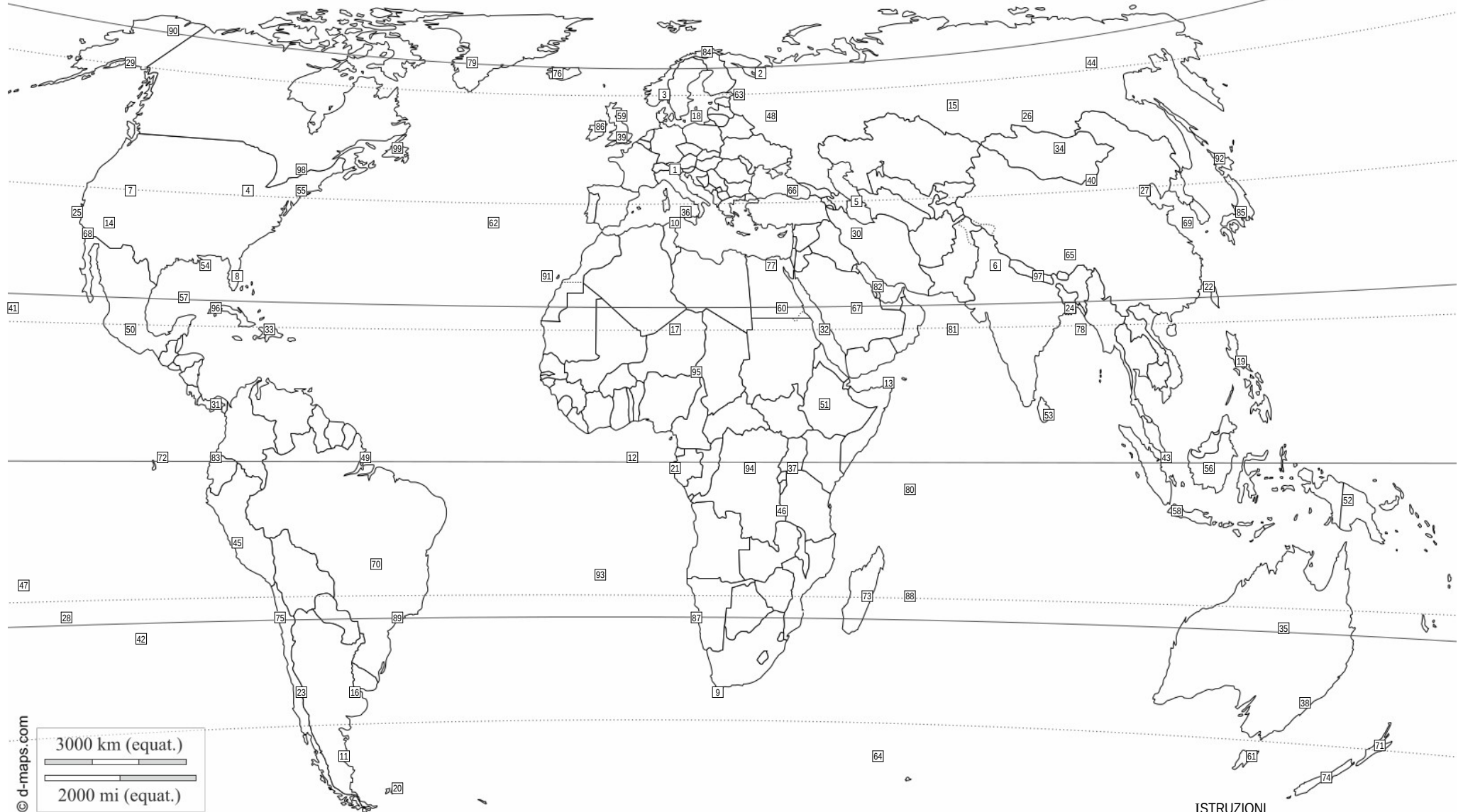
LOCALITÀ	NUM	LAT
Filippine	16	15° N
Islanda	18	64° N
Alice Springs	97	23° S
Deserto del Gobi	73	42° N
Golfo del Messico	49	23° N
Isola del Sud	58	45° S
Isole Seychelles	15	5° S
Isola Maurizio	51	20° S

LOCALITÀ	NUM	LAT
Ottawa	4	45° N
Delta del Mississippi	2	30° N
Hokkaido	66	45° N
Comodoro	99	45° S
Groenlandia	61	67° N
Quito	64	0°
Madagascar	36	20° S
Tasmania	63	42° S

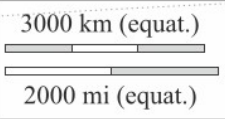
LOCALITÀ	NUM	LAT
Mar Baltico	60	56° N
Edimburgo	84	56° N
Mar Caspio	57	40° N
Golfo del Bengala	42	20° N
Fort Yukon	34	67° N
Walvis Bay	3	23° S

**ISTRUZIONI**

- Sulla mappa ci sono 99 località numerate
- Identifica sulla mappa il numero che rappresenta la posizione di ciascuna delle 38 località elencate nella tabella.
- Scrivi i numeri corrispondenti a fianco dei nomi, nella colonna NUM.
- Nella colonna LAT, scrivi la latitudine in gradi (fai una stima basandoti sui paralleli tracciati sulla mappa).
- Per le località su aree molto vaste la latitudine da scrivere è quella del punto in cui è posizionato il numero.



© d-maps.com



LOCALITÀ	NUM	LAT
Venezia	1	45° N
Deserto del Gobi	40	42° N
Delta del Mississippi	54	30° N
Kampala	37	0°
Filippine	19	15° N
Madagascar	73	20° S
Golfo del Bengala	78	20° N
Corno d'Africa	13	12° N

LOCALITÀ	NUM	LAT
Isole Crozet	64	45° S
Alice Springs	35	23° S
Assuan	60	23° N
Isole Eolie	36	38° N
Bacino del Congo	94	0°
Groenlandia	79	67° N
Comodoro	11	45° S
Mar Baltico	18	56° N

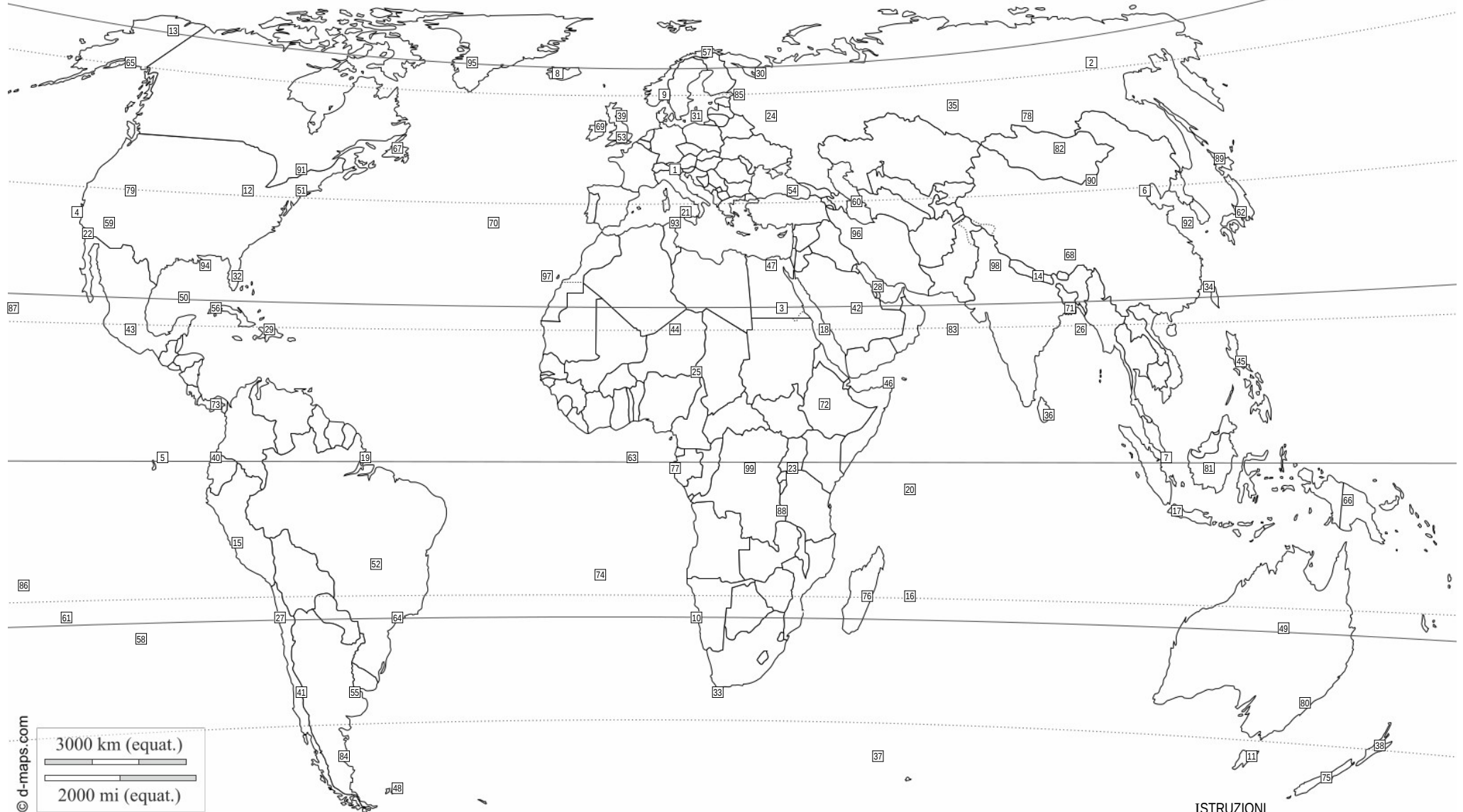
LOCALITÀ	NUM	LAT
Chicago	4	42° N
Hammerfest	84	71° N
Isola del Sud	74	45° S
Honolulu	41	23° N
Isola Maurizio	88	20° S
Golfo Persico	82	25° N
Islanda	76	64° N
Mosca	48	56° N

LOCALITÀ	NUM	LAT
Quito	83	0°
Ottawa	98	45° N
L'Avana	96	23° N
Fort Yukon	90	67° N
Tasmania	61	42° S
Dacca	24	23° N
Hokkaido	92	45° N
Singapore	43	1° N

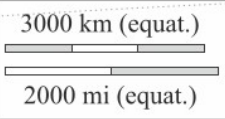
LOCALITÀ	NUM	LAT
Edimburgo	59	56° N
Golfo del Messico	57	23° N
Walvis Bay	87	23° S
San Paolo	89	23° S
Mar Caspio	5	40° N
Isole Seychelles	80	5° S

**ISTRUZIONI**

- Sulla mappa ci sono 99 località numerate
- Identifica sulla mappa il numero che rappresenta la posizione di ciascuna delle 38 località elencate nella tabella.
- Scrivi i numeri corrispondenti a fianco dei nomi, nella colonna NUM.
- Nella colonna LAT, scrivi la latitudine in gradi (fai una stima basandoti sui paralleli tracciati sulla mappa).
- Per le località su aree molto vaste la latitudine da scrivere è quella del punto in cui è posizionato il numero.



© d-maps.com



LOCALITÀ	NUM	LAT
Venezia	1	45° N
Mosca	24	56° N
Hokkaido	89	45° N
Ottawa	91	45° N
Golfo del Messico	50	23° N
Golfo del Bengala	26	20° N
Alice Springs	49	23° S
Honolulu	87	23° N

LOCALITÀ	NUM	LAT
Delta del Mississippi	94	30° N
Isola Maurizio	16	20° S
Isole Eolie	21	38° N
Bacino del Congo	99	0°
Madagascar	76	20° S
Corno d'Africa	46	12° N
Filippine	45	15° N
Kampala	23	0°

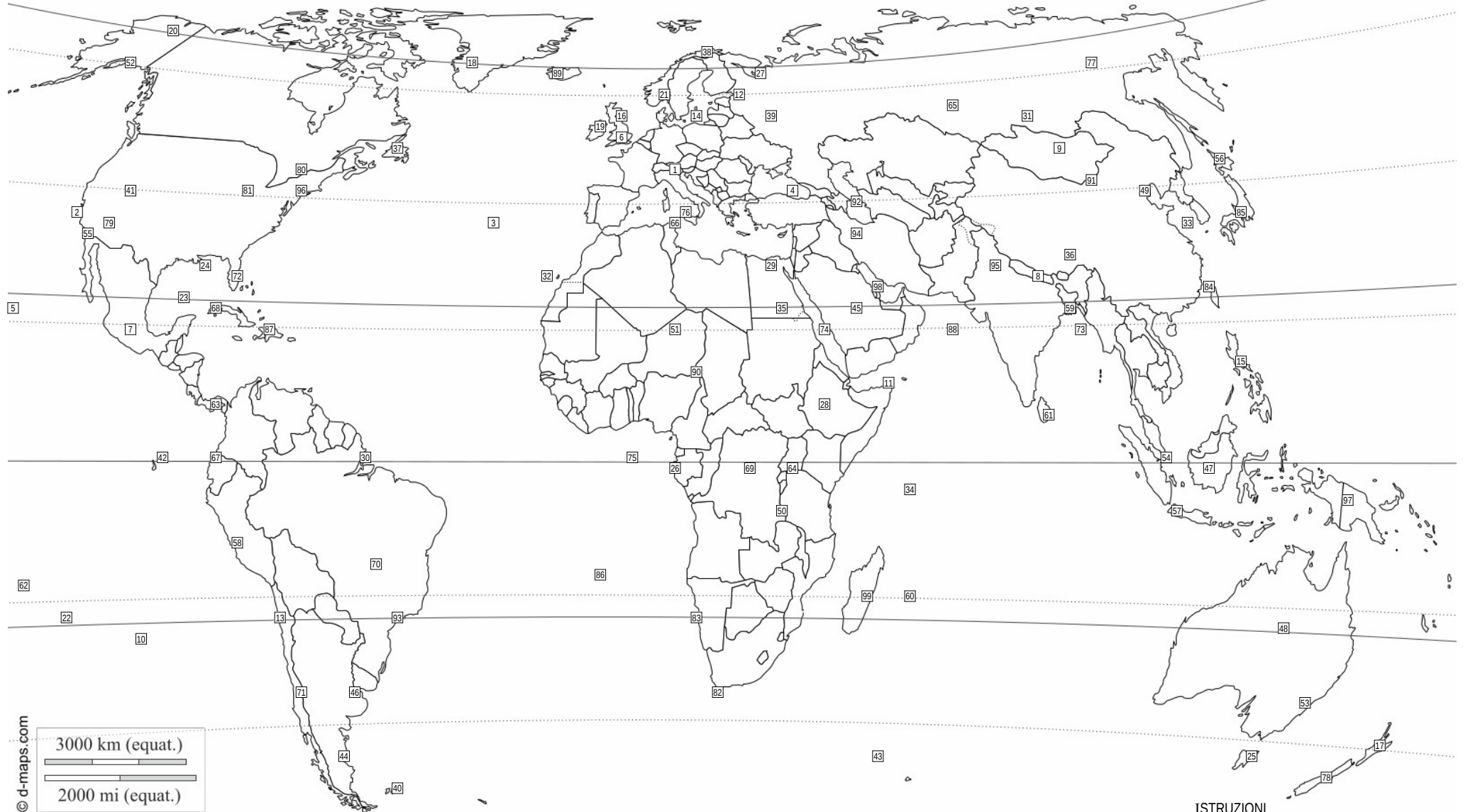
LOCALITÀ	NUM	LAT
Assuan	3	23° N
Hammerfest	57	71° N
Isole Seychelles	20	5° S
Chicago	12	42° N
Walvis Bay	10	23° S
Tasmania	11	42° S
Comodoro	84	45° S
Groenlandia	95	67° N

LOCALITÀ	NUM	LAT
San Paolo	64	23° S
Singapore	7	1° N
Mar Caspio	60	40° N
Edimburgo	39	56° N
Isole Crozet	37	45° S
L'Avana	56	23° N
Fort Yukon	13	67° N
Deserto del Gobi	90	42° N

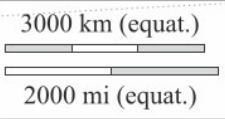
LOCALITÀ	NUM	LAT
Islanda	8	64° N
Isola del Sud	75	45° S
Quito	40	0°
Mar Baltico	31	56° N
Dacca	71	23° N
Golfo Persico	28	25° N

**ISTRUZIONI**

- Sulla mappa ci sono 99 località numerate
- Identifica sulla mappa il numero che rappresenta la posizione di ciascuna delle 38 località elencate nella tabella.
- Scrivi i numeri corrispondenti a fianco dei nomi, nella colonna NUM.
- Nella colonna LAT, scrivi la latitudine in gradi (fai una stima basandoti sui paralleli tracciati sulla mappa).
- Per le località su aree molto vaste la latitudine da scrivere è quella del punto in cui è posizionato il numero.



© d-maps.com



LOCALITÀ	NUM	LAT
Venezia	1	45° N
Delta del Mississippi	24	30° N
Corno d'Africa	11	12° N
Isole Crozet	43	45° S
Fort Yukon	20	67° N
Mar Caspio	92	40° N
Edimburgo	16	56° N
Hokkaido	56	45° N

LOCALITÀ	NUM	LAT
Kampala	64	0°
L'Avana	68	23° N
Comodoro	44	45° S
Dacca	59	23° N
San Paolo	93	23° S
Mosca	39	56° N
Bacino del Congo	69	0°
Singapore	54	1° N

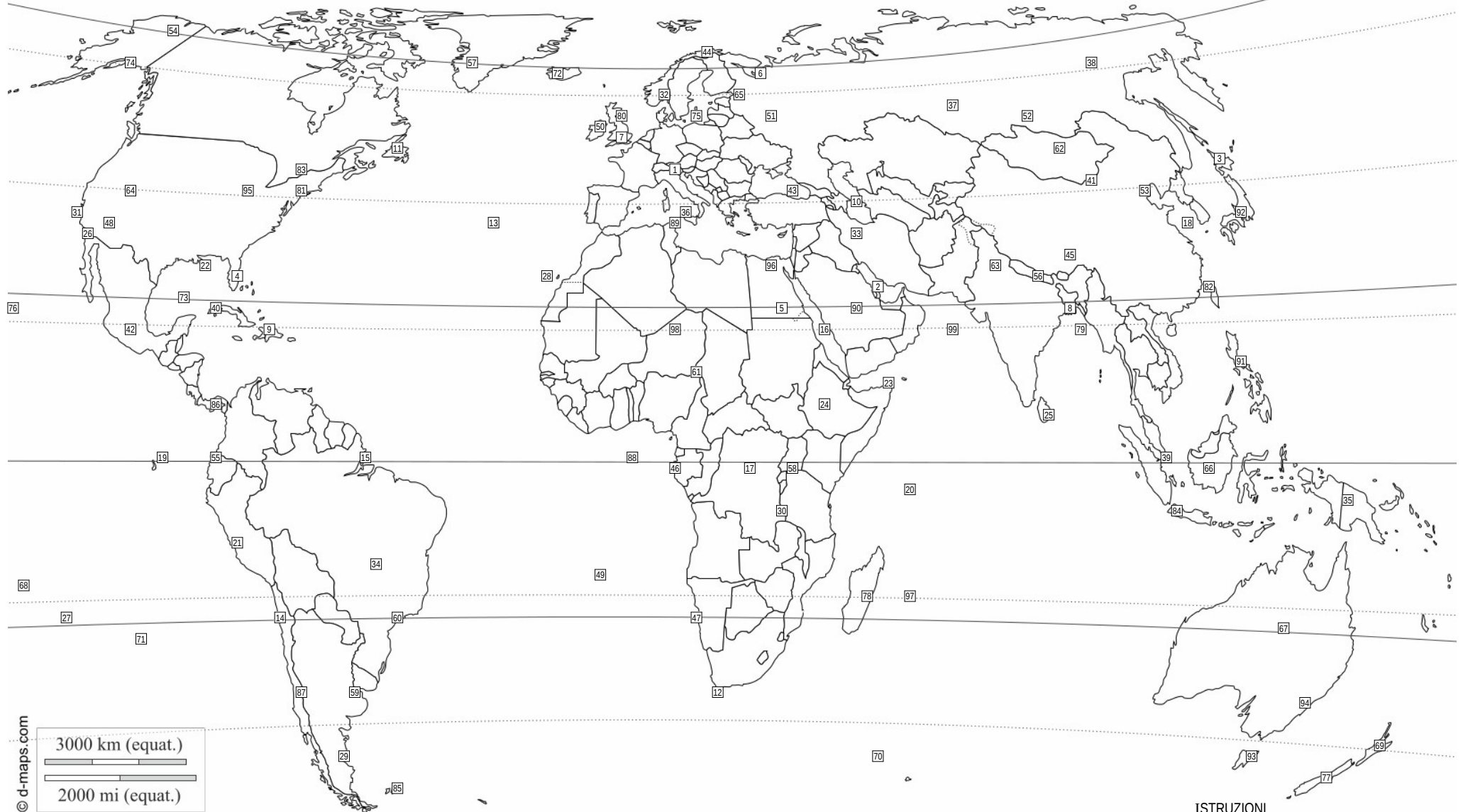
LOCALITÀ	NUM	LAT
Assuan	35	23° N
Isola Maurizio	60	20° S
Alice Springs	48	23° S
Isole Eolie	76	38° N
Hammerfest	38	71° N
Walvis Bay	83	23° S
Golfo del Bengala	73	20° N
Groenlandia	18	67° N

LOCALITÀ	NUM	LAT
Madagascar	99	20° S
Isola del Sud	78	45° S
Chicago	81	42° N
Islanda	89	64° N
Honolulu	5	23° N
Golfo Persico	98	25° N
Golfo del Messico	23	23° N
Isole Seychelles	34	5° S

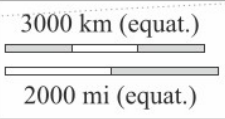
LOCALITÀ	NUM	LAT
Deserto del Gobi	91	42° N
Quito	67	0°
Tasmania	25	42° S
Ottawa	80	45° N
Filippine	15	15° N
Mar Baltico	14	56° N

**ISTRUZIONI**

- Sulla mappa ci sono 99 località numerate
- Identifica sulla mappa il numero che rappresenta la posizione di ciascuna delle 38 località elencate nella tabella.
- Scrivi i numeri corrispondenti a fianco dei nomi, nella colonna NUM.
- Nella colonna LAT, scrivi la latitudine in gradi (fai una stima basandoti sui paralleli tracciati sulla mappa).
- Per le località su aree molto vaste la latitudine da scrivere è quella del punto in cui è posizionato il numero.



© d-maps.com



LOCALITÀ	NUM	LAT
Venezia	1	45° N
Isole Eolie	36	38° N
Walvis Bay	47	23° S
Alice Springs	67	23° S
Isole Seychelles	20	5° S
Bacino del Congo	17	0°
Hammerfest	44	71° N
Deserto del Gobi	41	42° N

LOCALITÀ	NUM	LAT
Assuan	5	23° N
Madagascar	78	20° S
San Paolo	60	23° S
Isola del Sud	77	45° S
Chicago	95	42° N
Tasmania	93	42° S
Islanda	72	64° N
Corno d'Africa	23	12° N

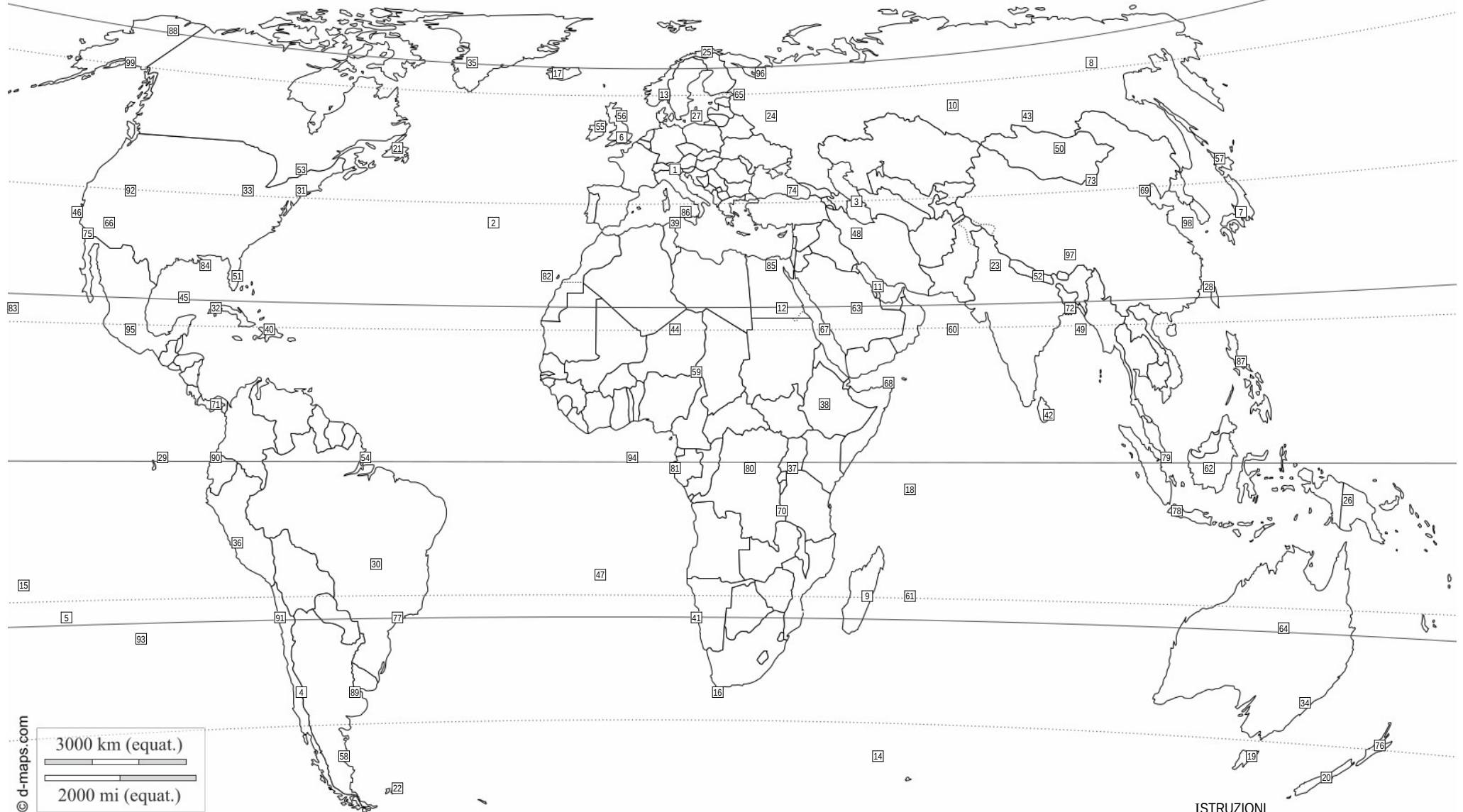
LOCALITÀ	NUM	LAT
Golfo del Messico	73	23° N
Golfo Persico	2	25° N
Hokkaido	3	45° N
Fort Yukon	54	67° N
Isola Maurizio	97	20° S
Filippine	91	15° N
Golfo del Bengala	79	20° N
Dacca	8	23° N

LOCALITÀ	NUM	LAT
Quito	55	0°
Comodoro	29	45° S
Delta del Mississippi	22	30° N
Kampala	58	0°
Groenlandia	57	67° N
Mar Baltico	75	56° N
Edimburgo	80	56° N
L'Avana	40	23° N

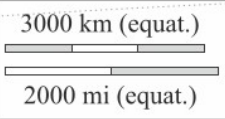
LOCALITÀ	NUM	LAT
Isole Crozet	70	45° S
Honolulu	76	23° N
Singapore	39	1° N
Mar Caspio	10	40° N
Mosca	51	56° N
Ottawa	83	45° N

**ISTRUZIONI**

- Sulla mappa ci sono 99 località numerate
- Identifica sulla mappa il numero che rappresenta la posizione di ciascuna delle 38 località elencate nella tabella.
- Scrivi i numeri corrispondenti a fianco dei nomi, nella colonna NUM.
- Nella colonna LAT, scrivi la latitudine in gradi (fai una stima basandoti sui paralleli tracciati sulla mappa).
- Per le località su aree molto vaste la latitudine da scrivere è quella del punto in cui è posizionato il numero.



© d-maps.com



LOCALITÀ	NUM	LAT
Venezia	1	45° N
Tasmania	19	42° S
Edimburgo	56	56° N
Golfo del Bengala	49	20° N
Mar Caspio	3	40° N
Bacino del Congo	80	0°
Ottawa	53	45° N
Kampala	37	0°

LOCALITÀ	NUM	LAT
Filippine	87	15° N
Singapore	79	1° N
Isole Seychelles	18	5° S
Isole Crozet	14	45° S
Groenlandia	35	67° N
Comodoro	58	45° S
Isola del Sud	20	45° S
Deserto del Gobi	73	42° N

LOCALITÀ	NUM	LAT
Honolulu	83	23° N
Walvis Bay	41	23° S
Delta del Mississippi	84	30° N
Golfo del Messico	45	23° N
Islanda	17	64° N
Golfo Persico	11	25° N
Quito	90	0°
San Paolo	77	23° S

LOCALITÀ	NUM	LAT
Isole Eolie	86	38° N
Hokkaido	57	45° N
L'Avana	32	23° N
Mar Baltico	27	56° N
Isola Maurizio	61	20° S
Assuan	12	23° N
Corno d'Africa	68	12° N
Mosca	24	56° N

LOCALITÀ	NUM	LAT
Chicago	33	42° N
Hammerfest	25	71° N
Fort Yukon	88	67° N
Alice Springs	64	23° S
Dacca	72	23° N
Madagascar	9	20° S

**ISTRUZIONI**

- Sulla mappa ci sono 99 località numerate
- Identifica sulla mappa il numero che rappresenta la posizione di ciascuna delle 38 località elencate nella tabella.
- Scrivi i numeri corrispondenti a fianco dei nomi, nella colonna NUM.
- Nella colonna LAT, scrivi la latitudine in gradi (fai una stima basandoti sui paralleli tracciati sulla mappa).
- Per le località su aree molto vaste la latitudine da scrivere è quella del punto in cui è posizionato il numero.





© d-maps.com

LOCALITÀ	NUM	LAT
Venezia	1	45° N
Deserto del Gobi	87	42° N
Islanda	22	64° N
Kampala	62	0°
Chicago	61	42° N
Isola Maurizio	4	20° S
Hokkaido	54	45° N
Dacca	70	23° N

LOCALITÀ	NUM	LAT
Mar Caspio	30	40° N
Groenlandia	66	67° N
Bacino del Congo	78	0°
Golfo del Messico	76	23° N
Golfo Persico	36	25° N
San Paolo	24	23° S
Fort Yukon	79	67° N
Tasmania	69	42° S

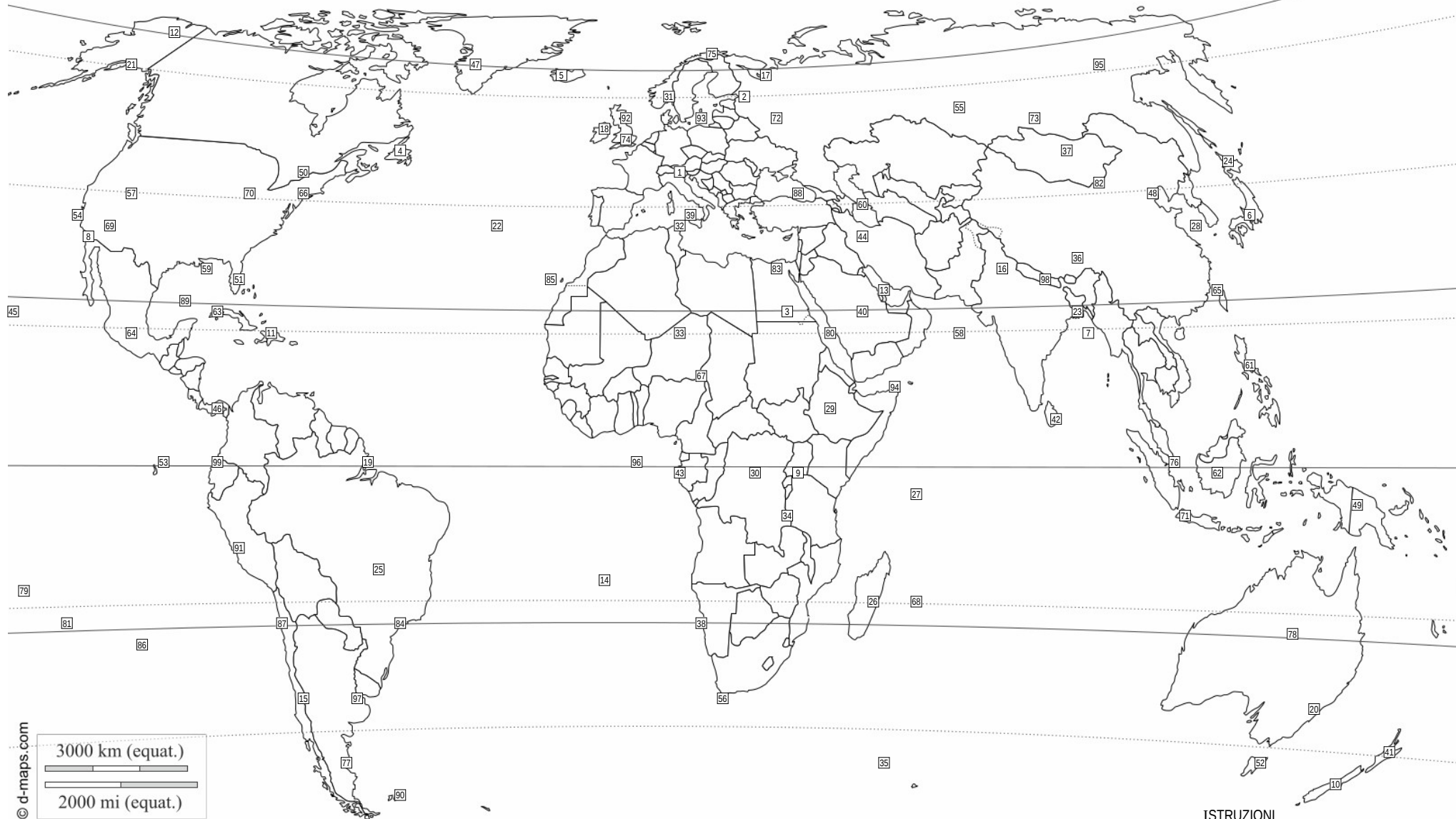
LOCALITÀ	NUM	LAT
Delta del Mississippi	39	30° N
Corno d'Africa	81	12° N
L'Avana	60	23° N
Mar Baltico	88	56° N
Walvis Bay	96	23° S
Hammerfest	97	71° N
Isole Seychelles	84	5° S
Ottawa	41	45° N

LOCALITÀ	NUM	LAT
Isole Crozet	3	45° S
Golfo del Bengala	29	20° N
Isola del Sud	82	45° S
Alice Springs	94	23° S
Mosca	83	56° N
Isole Eolie	7	38° N
Edimburgo	38	56° N
Honolulu	27	23° N

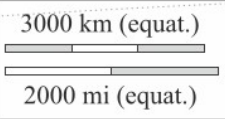
LOCALITÀ	NUM	LAT
Assuan	28	23° N
Comodoro	74	45° S
Filippine	72	15° N
Madagascar	18	20° S
Singapore	98	1° N
Quito	75	0°

**ISTRUZIONI**

- Sulla mappa ci sono 99 località numerate
- Identifica sulla mappa il numero che rappresenta la posizione di ciascuna delle 38 località elencate nella tabella.
- Scrivi i numeri corrispondenti a fianco dei nomi, nella colonna NUM.
- Nella colonna LAT, scrivi la latitudine in gradi (fai una stima basandoti sui paralleli tracciati sulla mappa).
- Per le località su aree molto vaste la latitudine da scrivere è quella del punto in cui è posizionato il numero.



© d-maps.com



LOCALITÀ	NUM	LAT
Venezia	1	45° N
Assuan	3	23° N
Isole Crozet	35	45° S
Golfo del Messico	89	23° N
Bacino del Congo	30	0°
Kampala	9	0°
Islanda	5	64° N
Walvis Bay	38	23° S

LOCALITÀ	NUM	LAT
L'Avana	63	23° N
Isole Seychelles	27	5° S
Dacca	23	23° N
Mar Baltico	93	56° N
Deserto del Gobi	82	42° N
Corno d'Africa	94	12° N
Alice Springs	78	23° S
Mar Caspio	60	40° N

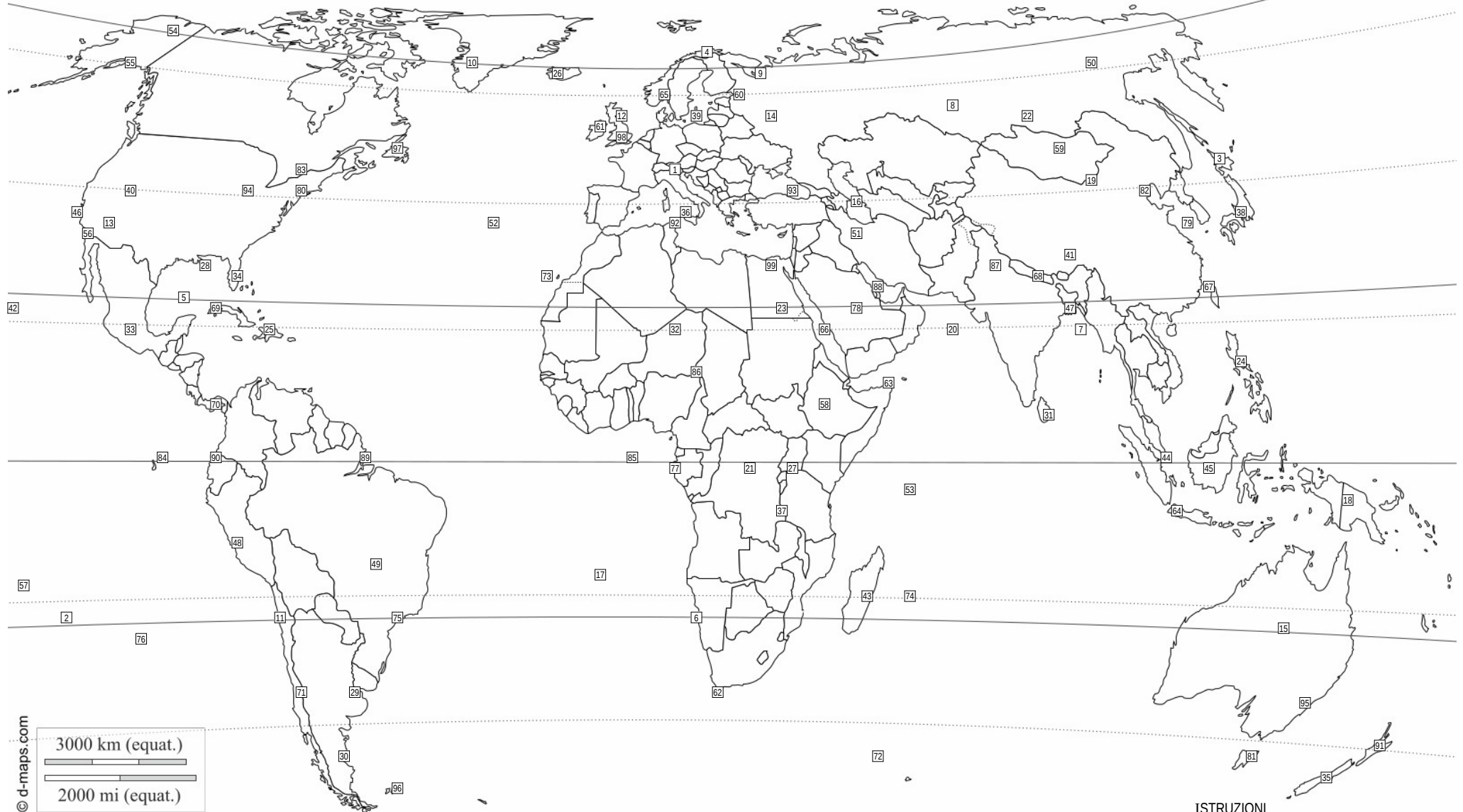
LOCALITÀ	NUM	LAT
Comodoro	77	45° S
Quito	99	0°
Isola del Sud	10	45° S
Filippine	61	15° N
Hammerfest	75	71° N
Chicago	70	42° N
Madagascar	26	20° S

LOCALITÀ	NUM	LAT
Golfo del Bengala	7	20° N
Tasmania	52	42° S
Groenlandia	47	67° N
San Paolo	84	23° S
Edimburgo	92	56° N
Mosca	72	56° N
Delta del Mississippi	59	30° N
Isole Eolie	39	38° N

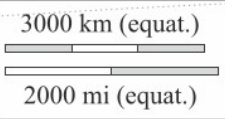
LOCALITÀ	NUM	LAT
Fort Yukon	12	67° N
Isola Maurizio	68	20° S
Honolulu	45	23° N
Ottawa	50	45° N
Hokkaido	24	45° N
Golfo Persico	13	25° N

**ISTRUZIONI**

- Sulla mappa ci sono 99 località numerate
- Identifica sulla mappa il numero che rappresenta la posizione di ciascuna delle 38 località elencate nella tabella.
- Scrivi i numeri corrispondenti a fianco dei nomi, nella colonna NUM.
- Nella colonna LAT, scrivi la latitudine in gradi (fai una stima basandoti sui paralleli tracciati sulla mappa).
- Per le località su aree molto vaste la latitudine da scrivere è quella del punto in cui è posizionato il numero.



© d-maps.com



LOCALITÀ	NUM	LAT
Venezia	1	45° N
Chicago	94	42° N
Hokkaido	3	45° N
Isola del Sud	35	45° S
Corno d'Africa	63	12° N
L'Avana	69	23° N
Golfo del Messico	5	23° N
Fort Yukon	54	67° N

LOCALITÀ	NUM	LAT
Quito	90	0°
Golfo Persico	88	25° N
Walvis Bay	6	23° S
Hammerfest	4	71° N
Kampala	27	0°
Deserto del Gobi	19	42° N
Edimburgo	12	56° N
Assuan	23	23° N

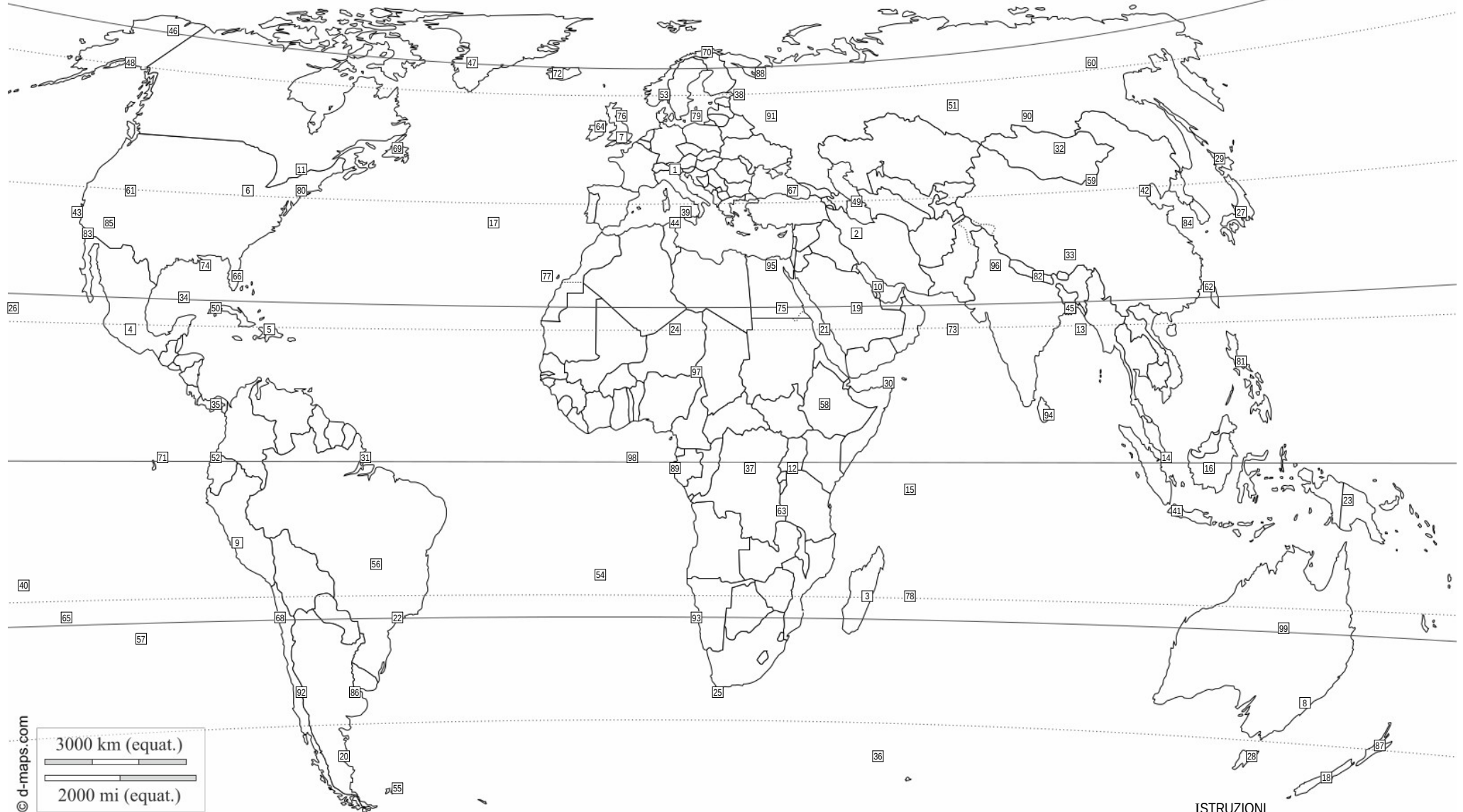
LOCALITÀ	NUM	LAT
Filippine	24	15° N
Isole Crozet	72	45° S
Ottawa	83	45° N
Honolulu	42	23° N
Golfo del Bengala	7	20° N
Mosca	14	56° N
Bacino del Congo	21	0°
Mar Caspio	16	40° N

LOCALITÀ	NUM	LAT
Madagascar	43	20° S
Dacca	47	23° N
Isola Maurizio	74	20° S
Tasmania	81	42° S
Islanda	26	64° N
San Paolo	75	23° S
Delta del Mississippi	28	30° N
Mar Baltico	39	56° N

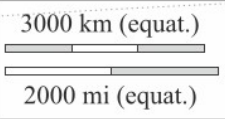
LOCALITÀ	NUM	LAT
Singapore	44	1° N
Isole Eolie	36	38° N
Isole Seychelles	53	5° S
Groenlandia	10	67° N
Alice Springs	15	23° S
Comodoro	30	45° S

**ISTRUZIONI**

- Sulla mappa ci sono 99 località numerate
- Identifica sulla mappa il numero che rappresenta la posizione di ciascuna delle 38 località elencate nella tabella.
- Scrivi i numeri corrispondenti a fianco dei nomi, nella colonna NUM.
- Nella colonna LAT, scrivi la latitudine in gradi (fai una stima basandoti sui paralleli tracciati sulla mappa).
- Per le località su aree molto vaste la latitudine da scrivere è quella del punto in cui è posizionato il numero.



© d-maps.com



LOCALITÀ	NUM	LAT
Venezia	1	45° N
Deserto del Gobi	59	42° N
Dacca	45	23° N
Isole Eolie	39	38° N
Hammerfest	70	71° N
Singapore	14	1° N
Assuan	75	23° N
Corno d'Africa	30	12° N

LOCALITÀ	NUM	LAT
Mosca	91	56° N
Filippine	81	15° N
Comodoro	20	45° S
Quito	52	0°
Isola Maurizio	78	20° S
L'Avana	50	23° N
Hokkaido	29	45° N
Bacino del Congo	37	0°

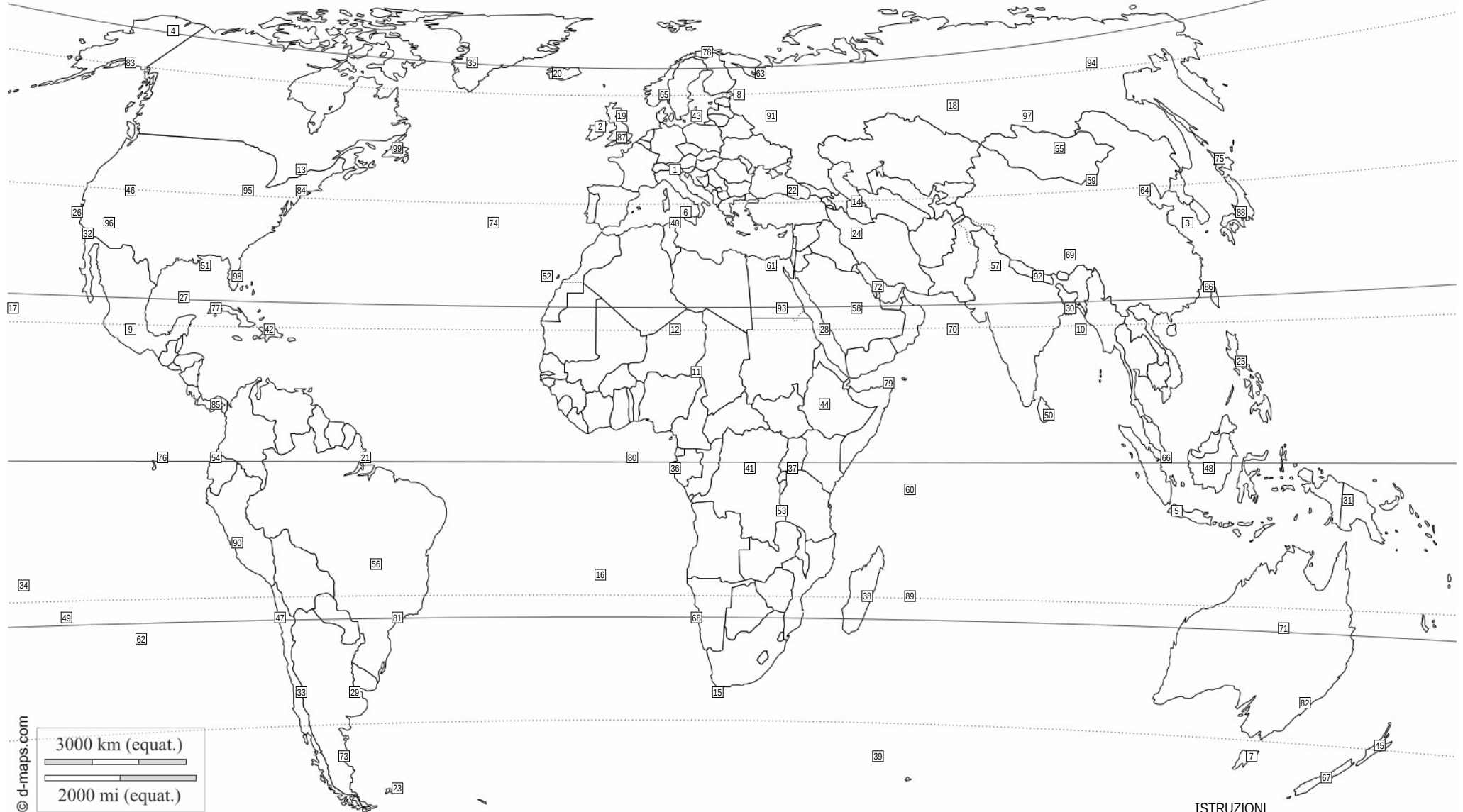
LOCALITÀ	NUM	LAT
Kampala	12	0°
Golfo del Messico	34	23° N
Edimburgo	76	56° N
Tasmania	28	42° S
Honolulu	26	23° N
Chicago	6	42° N
Madagascar	3	20° S
Isole Crozet	36	45° S

LOCALITÀ	NUM	LAT
Golfo del Bengala	13	20° N
Golfo Persico	10	25° N
Islanda	72	64° N
Mar Caspio	49	40° N
Mar Baltico	79	56° N
Fort Yukon	46	67° N
Delta del Mississippi	74	30° N
San Paolo	22	23° S

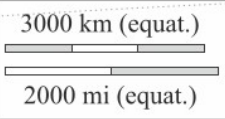
LOCALITÀ	NUM	LAT
Walvis Bay	93	23° S
Groenlandia	47	67° N
Isole Seychelles	15	5° S
Isola del Sud	18	45° S
Ottawa	11	45° N
Alice Springs	99	23° S

**ISTRUZIONI**

- Sulla mappa ci sono 99 località numerate
- Identifica sulla mappa il numero che rappresenta la posizione di ciascuna delle 38 località elencate nella tabella.
- Scrivi i numeri corrispondenti a fianco dei nomi, nella colonna NUM.
- Nella colonna LAT, scrivi la latitudine in gradi (fai una stima basandoti sui paralleli tracciati sulla mappa).
- Per le località su aree molto vaste la latitudine da scrivere è quella del punto in cui è posizionato il numero.



© d-maps.com



LOCALITÀ	NUM	LAT
Venezia	1	45° N
Edimburgo	19	56° N
Hammerfest	78	71° N
Isola Maurizio	89	20° S
Isole Seychelles	60	5° S
L'Avana	77	23° N
Walvis Bay	68	23° S
Islanda	20	64° N

LOCALITÀ	NUM	LAT
Hokkaido	75	45° N
Isole Crozet	39	45° S
Ottawa	13	45° N
Singapore	66	1° N
Mar Caspio	14	40° N
Golfo del Bengala	10	20° N
Delta del Mississippi	51	30° N
Chicago	95	42° N

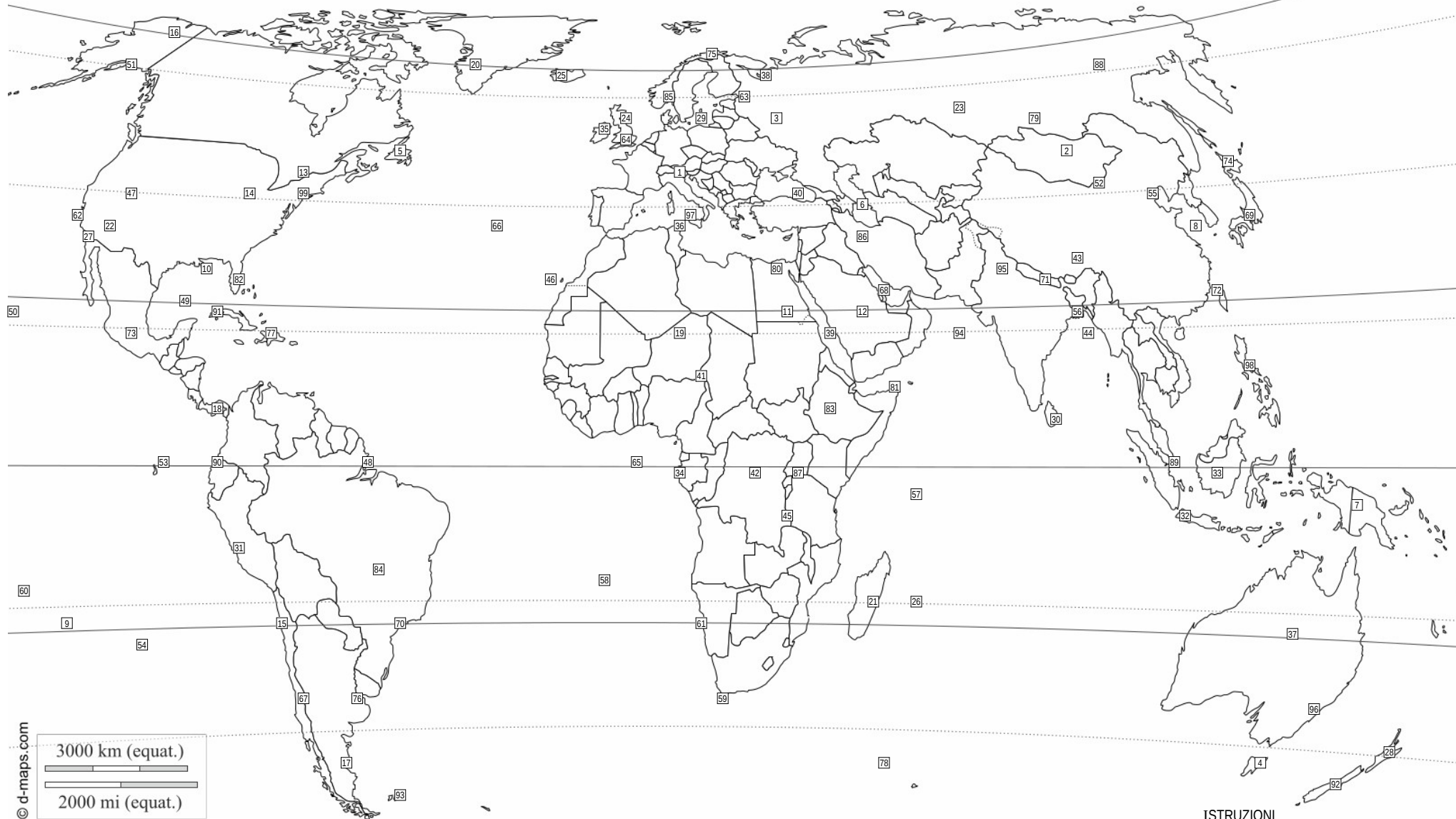
LOCALITÀ	NUM	LAT
Fort Yukon	4	67° N
Mosca	91	56° N
Groenlandia	35	67° N
Filippine	25	15° N
Deserto del Gobi	59	42° N
Golfo del Messico	27	23° N
Mar Baltico	43	56° N
Corno d'Africa	79	12° N

LOCALITÀ	NUM	LAT
Bacino del Congo	41	0°
Isola del Sud	67	45° S
Dacca	30	23° N
Isole Eolie	6	38° N
Madagascar	38	20° S
Tasmania	7	42° S
Honolulu	17	23° N
San Paolo	81	23° S

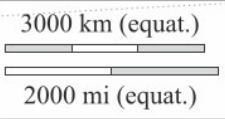
LOCALITÀ	NUM	LAT
Alice Springs	71	23° S
Quito	54	0°
Assuan	93	23° N
Comodoro	73	45° S
Kampala	37	0°
Golfo Persico	72	25° N

**ISTRUZIONI**

- Sulla mappa ci sono 99 località numerate
- Identifica sulla mappa il numero che rappresenta la posizione di ciascuna delle 38 località elencate nella tabella.
- Scrivi i numeri corrispondenti a fianco dei nomi, nella colonna NUM.
- Nella colonna LAT, scrivi la latitudine in gradi (fai una stima basandoti sui paralleli tracciati sulla mappa).
- Per le località su aree molto vaste la latitudine da scrivere è quella del punto in cui è posizionato il numero.



© d-maps.com



LOCALITÀ	NUM	LAT
Venezia	1	45° N
Singapore	89	1° N
Isole Seychelles	57	5° S
Dacca	56	23° N
Golfo del Bengala	44	20° N
San Paolo	70	23° S
Isola Maurizio	26	20° S
L'Avana	91	23° N

LOCALITÀ	NUM	LAT
Golfo del Messico	49	23° N
Tasmania	4	42° S
Bacino del Congo	42	0°
Hokkaido	74	45° N
Delta del Mississippi	10	30° N
Groenlandia	20	67° N
Kampala	87	0°
Edimburgo	24	56° N

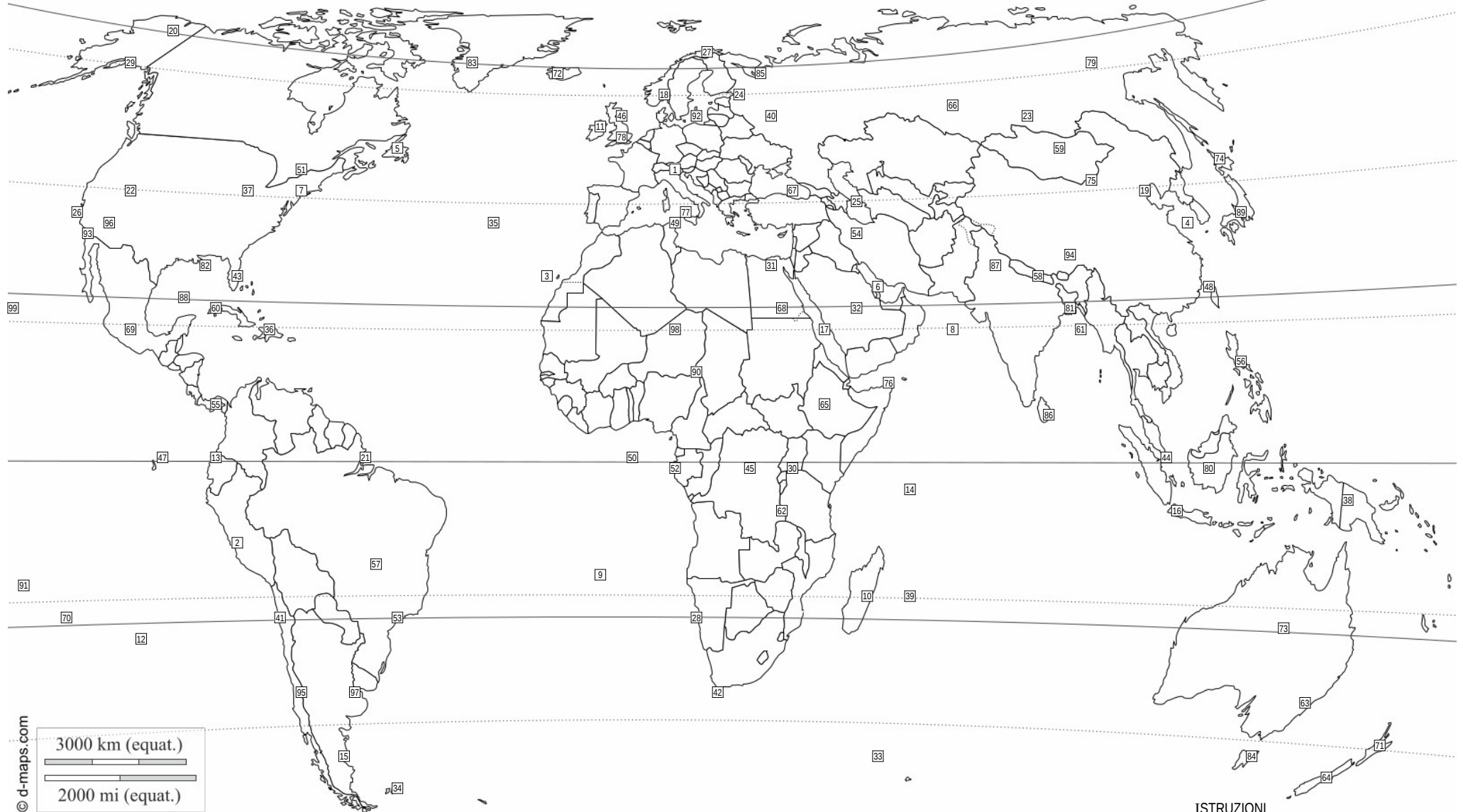
LOCALITÀ	NUM	LAT
Isole Crozet	78	45° S
Mar Caspio	6	40° N
Comodoro	17	45° S
Madagascar	21	20° S
Fort Yukon	16	67° N
Assuan	11	23° N
Islanda	25	64° N
Deserto del Gobi	52	42° N

LOCALITÀ	NUM	LAT
Mosca	3	56° N
Isole Eolie	97	38° N
Ottawa	13	45° N
Isola del Sud	92	45° S
Alice Springs	37	23° S
Corno d'Africa	81	12° N
Chicago	14	42° N
Mar Baltico	29	56° N

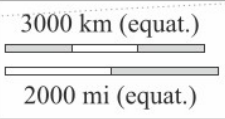
LOCALITÀ	NUM	LAT
Filippine	98	15° N
Golfo Persico	68	25° N
Hammerfest	75	71° N
Honolulu	50	23° N
Quito	90	0°
Walvis Bay	61	23° S

**ISTRUZIONI**

- Sulla mappa ci sono 99 località numerate
- Identifica sulla mappa il numero che rappresenta la posizione di ciascuna delle 38 località elencate nella tabella.
- Scrivi i numeri corrispondenti a fianco dei nomi, nella colonna NUM.
- Nella colonna LAT, scrivi la latitudine in gradi (fai una stima basandoti sui paralleli tracciati sulla mappa).
- Per le località su aree molto vaste la latitudine da scrivere è quella del punto in cui è posizionato il numero.



© d-maps.com



LOCALITÀ	NUM	LAT
Venezia	1	45° N
Deserto del Gobi	75	42° N
L'Avana	60	23° N
Madagascar	10	20° S
Walvis Bay	28	23° S
Filippine	56	15° N
Delta del Mississippi	82	30° N
Isola del Sud	64	45° S

LOCALITÀ	NUM	LAT
Assuan	68	23° N
Isola Maurizio	39	20° S
Golfo Persico	6	25° N
San Paolo	53	23° S
Fort Yukon	20	67° N
Mosca	40	56° N
Hammerfest	27	71° N
Ottawa	51	45° N

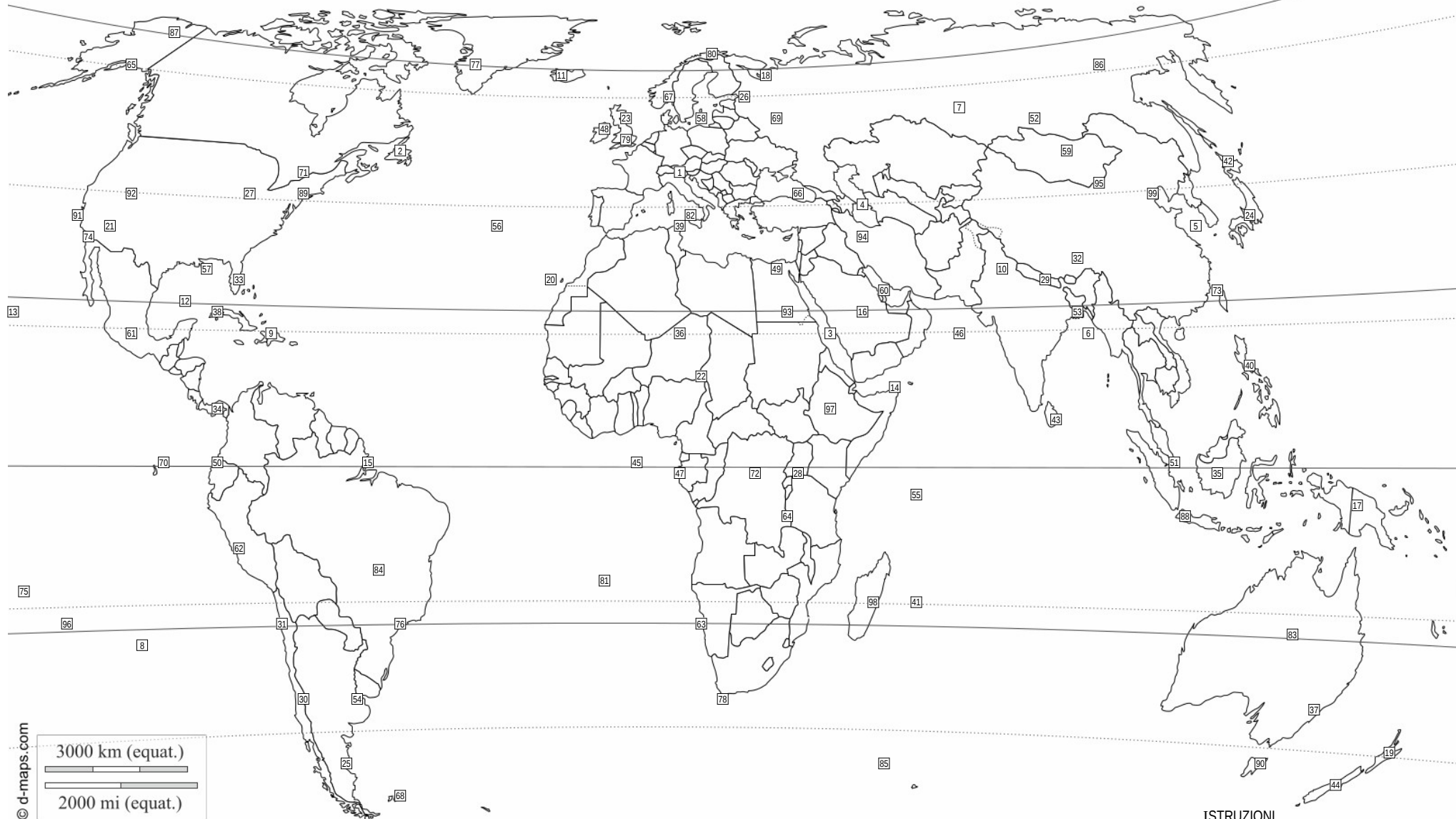
LOCALITÀ	NUM	LAT
Comodoro	15	45° S
Mar Baltico	92	56° N
Kampala	30	0°
Islanda	72	64° N
Dacca	81	23° N
Edimburgo	46	56° N
Isole Seychelles	14	5° S
Singapore	44	1° N

LOCALITÀ	NUM	LAT
Tasmania	84	42° S
Isole Eolie	77	38° N
Chicago	37	42° N
Groenlandia	83	67° N
Golfo del Messico	88	23° N
Corno d'Africa	76	12° N
Golfo del Bengala	61	20° N
Alice Springs	73	23° S

LOCALITÀ	NUM	LAT
Quito	13	0°
Hokkaido	74	45° N
Bacino del Congo	45	0°
Mar Caspio	25	40° N
Honolulu	99	23° N
Isole Crozet	33	45° S

**ISTRUZIONI**

- Sulla mappa ci sono 99 località numerate
- Identifica sulla mappa il numero che rappresenta la posizione di ciascuna delle 38 località elencate nella tabella.
- Scrivi i numeri corrispondenti a fianco dei nomi, nella colonna NUM.
- Nella colonna LAT, scrivi la latitudine in gradi (fai una stima basandoti sui paralleli tracciati sulla mappa).
- Per le località su aree molto vaste la latitudine da scrivere è quella del punto in cui è posizionato il numero.



© d-maps.com

LOCALITÀ	NUM	LAT
Venezia	1	45° N
Deserto del Gobi	95	42° N
Isole Crozet	85	45° S
Bacino del Congo	72	0°
Mar Caspio	4	40° N
Corno d'Africa	14	12° N
Fort Yukon	87	67° N
Kampala	28	0°

LOCALITÀ	NUM	LAT
Singapore	51	1° N
Islanda	11	64° N
Golfo del Bengala	6	20° N
San Paolo	76	23° S
Comodoro	25	45° S
Madagascar	98	20° S
L'Avana	38	23° N
Hammerfest	80	71° N

LOCALITÀ	NUM	LAT
Walvis Bay	63	23° S
Assuan	93	23° N
Golfo del Messico	12	23° N
Isole Seychelles	55	5° S
Edimburgo	23	56° N
Tasmania	90	42° S
Chicago	27	42° N
Alice Springs	83	23° S

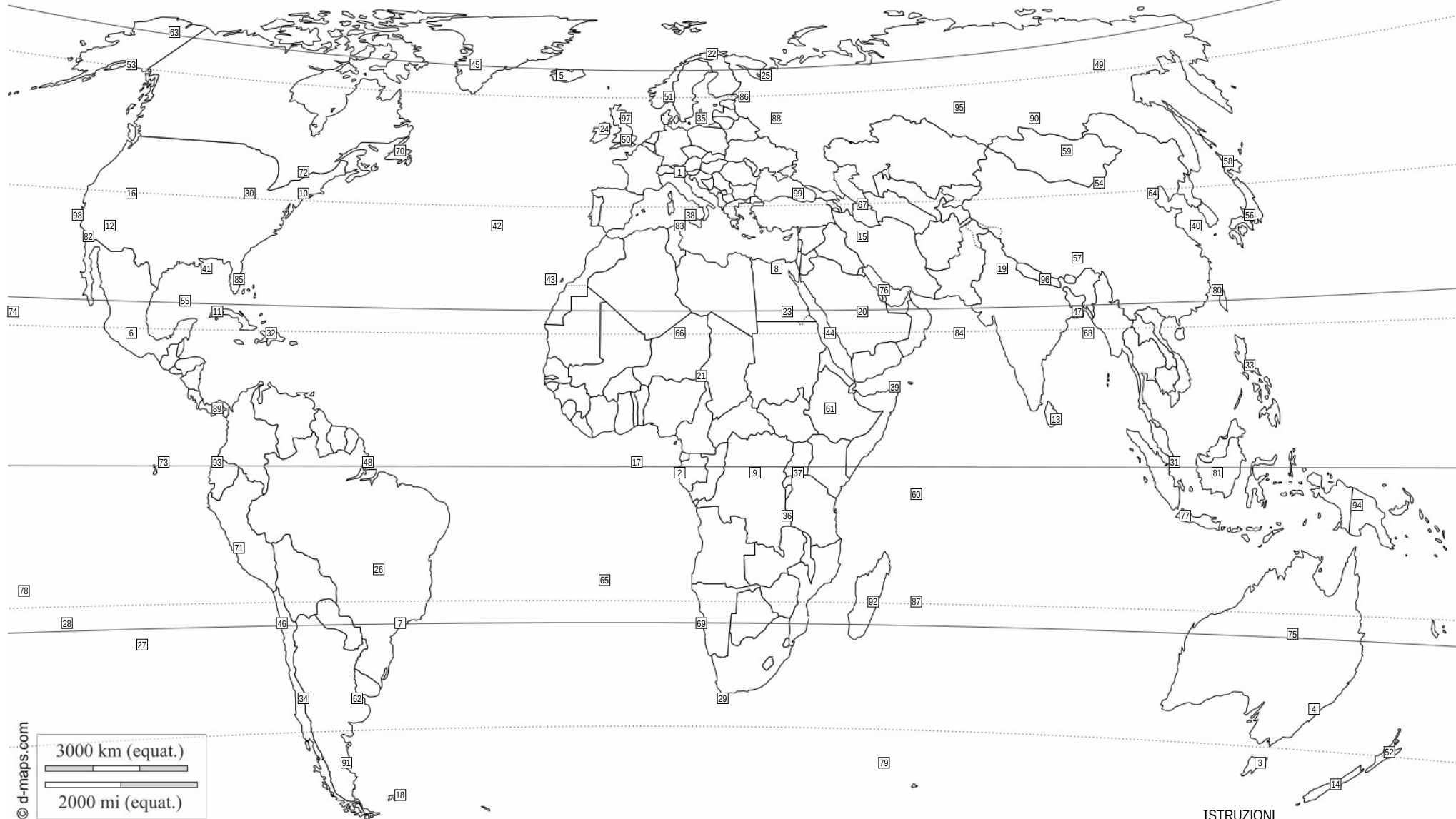
LOCALITÀ	NUM	LAT
Filippine	40	15° N
Isola del Sud	44	45° S
Ottawa	71	45° N
Isola Maurizio	41	20° S
Groenlandia	77	67° N
Quito	50	0°
Mosca	69	56° N
Delta del Mississippi	57	30° N

LOCALITÀ	NUM	LAT
Mar Baltico	58	56° N
Honolulu	13	23° N
Isole Eolie	82	38° N
Golfo Persico	60	25° N
Hokkaido	42	45° N
Dacca	53	23° N

**ISTRUZIONI**

- Sulla mappa ci sono 99 località numerate
- Identifica sulla mappa il numero che rappresenta la posizione di ciascuna delle 38 località elencate nella tabella.
- Scrivi i numeri corrispondenti a fianco dei nomi, nella colonna NUM.
- Nella colonna LAT, scrivi la latitudine in gradi (fai una stima basandoti sui paralleli tracciati sulla mappa).
- Per le località su aree molto vaste la latitudine da scrivere è quella del punto in cui è posizionato il numero.





© d-maps.com

3000 km (equat.)

2000 mi (equat.)

LOCALITÀ	NUM	LAT
Venezia	1	45° N
Isole Crozet	79	45° S
Ottawa	72	45° N
Quito	93	0°
Hokkaido	58	45° N
Dacca	47	23° N
Groenlandia	45	67° N
Hammerfest	22	71° N

LOCALITÀ	NUM	LAT
Walvis Bay	69	23° S
Bacino del Congo	9	0°
Mosca	88	56° N
Assuan	23	23° N
Mar Caspio	67	40° N
Corno d'Africa	39	12° N
Madagascar	92	20° S
L'Avana	11	23° N

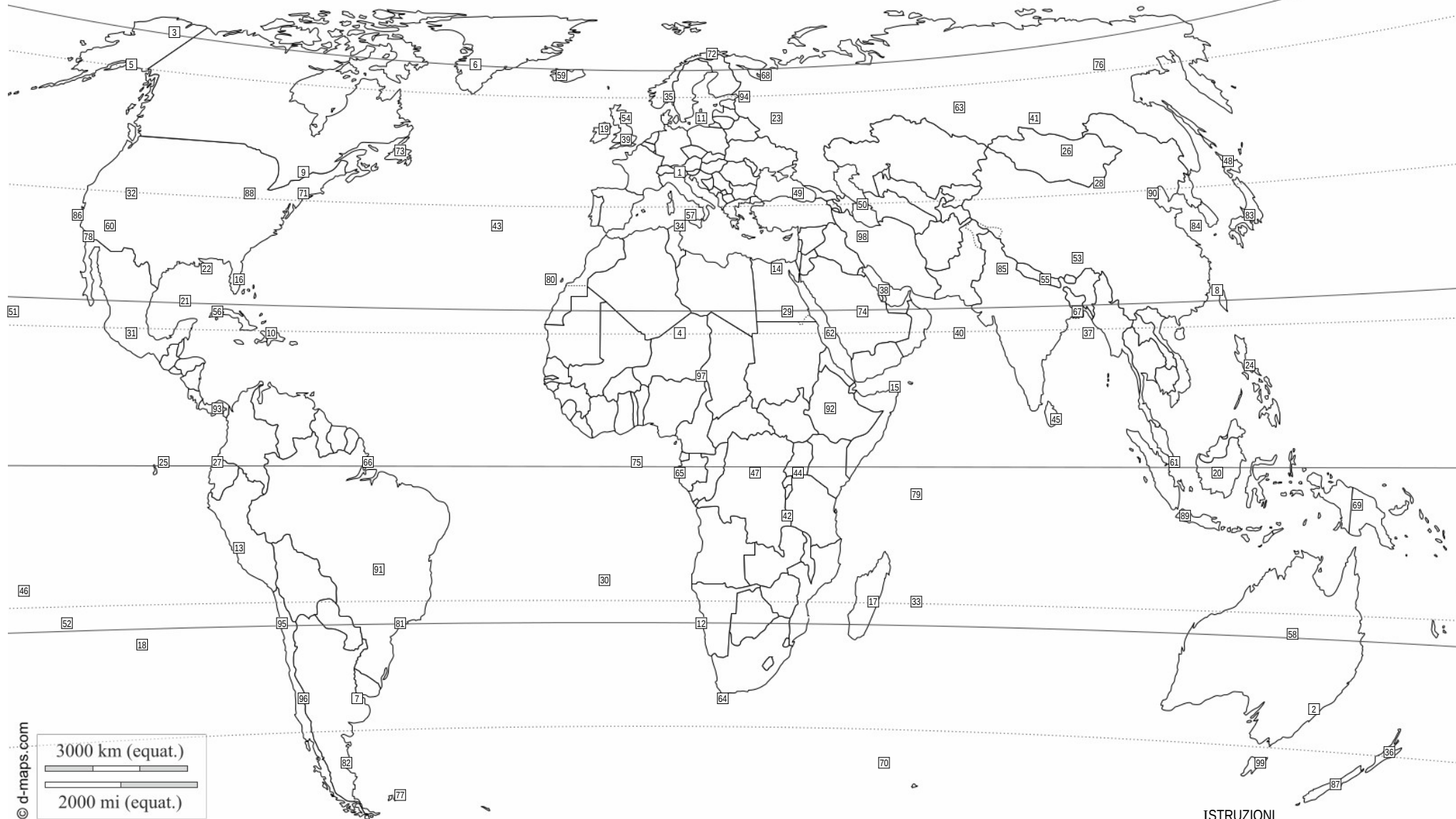
LOCALITÀ	NUM	LAT
Delta del Mississippi	41	30° N
Singapore	31	1° N
Golfo del Messico	55	23° N
Isole Seychelles	60	5° S
Golfo del Bengala	68	20° N
Isola del Sud	14	45° S
Isole Eolie	38	38° N
Kampala	37	0°

LOCALITÀ	NUM	LAT
Islanda	5	64° N
Tasmania	3	42° S
Edimburgo	97	56° N
Honolulu	74	23° N
Golfo Persico	76	25° N
Deserto del Gobi	54	42° N
Chicago	30	42° N
San Paolo	7	23° S

LOCALITÀ	NUM	LAT
Isola Maurizio	87	20° S
Comodoro	91	45° S
Fort Yukon	63	67° N
Alice Springs	75	23° S
Filippine	33	15° N
Mar Baltico	35	56° N

**ISTRUZIONI**

- Sulla mappa ci sono 99 località numerate
- Identifica sulla mappa il numero che rappresenta la posizione di ciascuna delle 38 località elencate nella tabella.
- Scrivi i numeri corrispondenti a fianco dei nomi, nella colonna NUM.
- Nella colonna LAT, scrivi la latitudine in gradi (fai una stima basandoti sui paralleli tracciati sulla mappa).
- Per le località su aree molto vaste la latitudine da scrivere è quella del punto in cui è posizionato il numero.



© d-maps.com

LOCALITÀ	NUM	LAT
Venezia	1	45° N
Honolulu	51	23° N
Mar Baltico	11	56° N
Kampala	44	0°
Madagascar	17	20° S
Tasmania	99	42° S
Mar Caspio	50	40° N
Chicago	88	42° N

LOCALITÀ	NUM	LAT
Isole Crozet	70	45° S
Edimburgo	54	56° N
Delta del Mississippi	22	30° N
Filippine	24	15° N
Walvis Bay	12	23° S
Groenlandia	6	67° N
L'Avana	56	23° N
Dacca	67	23° N

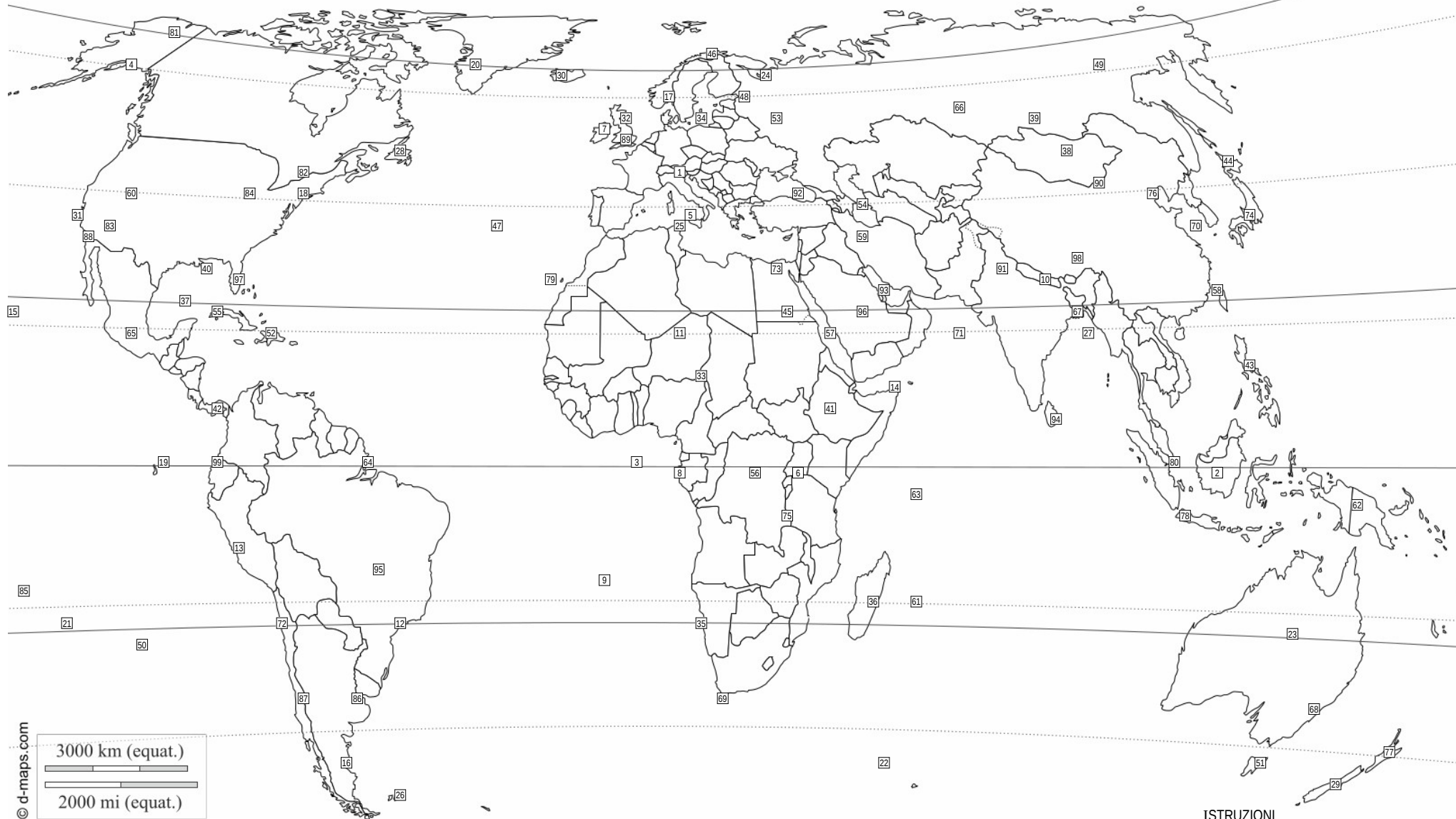
LOCALITÀ	NUM	LAT
Alice Springs	58	23° S
Golfo Persico	38	25° N
Isola del Sud	87	45° S
Hokkaido	48	45° N
Deserto del Gobi	28	42° N
Ottawa	9	45° N
Quito	27	0°
Singapore	61	1° N

LOCALITÀ	NUM	LAT
Islanda	59	64° N
Golfo del Bengala	37	20° N
Isole Seychelles	79	5° S
Isole Eolie	57	38° N
Golfo del Messico	21	23° N
Isola Maurizio	33	20° S
Comodoro	82	45° S
Bacino del Congo	47	0°

LOCALITÀ	NUM	LAT
San Paolo	81	23° S
Assuan	29	23° N
Corno d'Africa	15	12° N
Mosca	23	56° N
Hammerfest	72	71° N
Fort Yukon	3	67° N

**ISTRUZIONI**

- Sulla mappa ci sono 99 località numerate
- Identifica sulla mappa il numero che rappresenta la posizione di ciascuna delle 38 località elencate nella tabella.
- Scrivi i numeri corrispondenti a fianco dei nomi, nella colonna NUM.
- Nella colonna LAT, scrivi la latitudine in gradi (fai una stima basandoti sui paralleli tracciati sulla mappa).
- Per le località su aree molto vaste la latitudine da scrivere è quella del punto in cui è posizionato il numero.



© d-maps.com

LOCALITÀ	NUM	LAT
Venezia	1	45° N
Isole Eolie	5	38° N
Walvis Bay	35	23° S
Edimburgo	32	56° N
Groenlandia	20	67° N
Ottawa	82	45° N
Hammerfest	46	71° N
Corno d'Africa	14	12° N

LOCALITÀ	NUM	LAT
Comodoro	16	45° S
Isole Seychelles	63	5° S
Assuan	45	23° N
Islanda	30	64° N
Mosca	53	56° N
Bacino del Congo	56	0°
Alice Springs	23	23° S
Honolulu	15	23° N

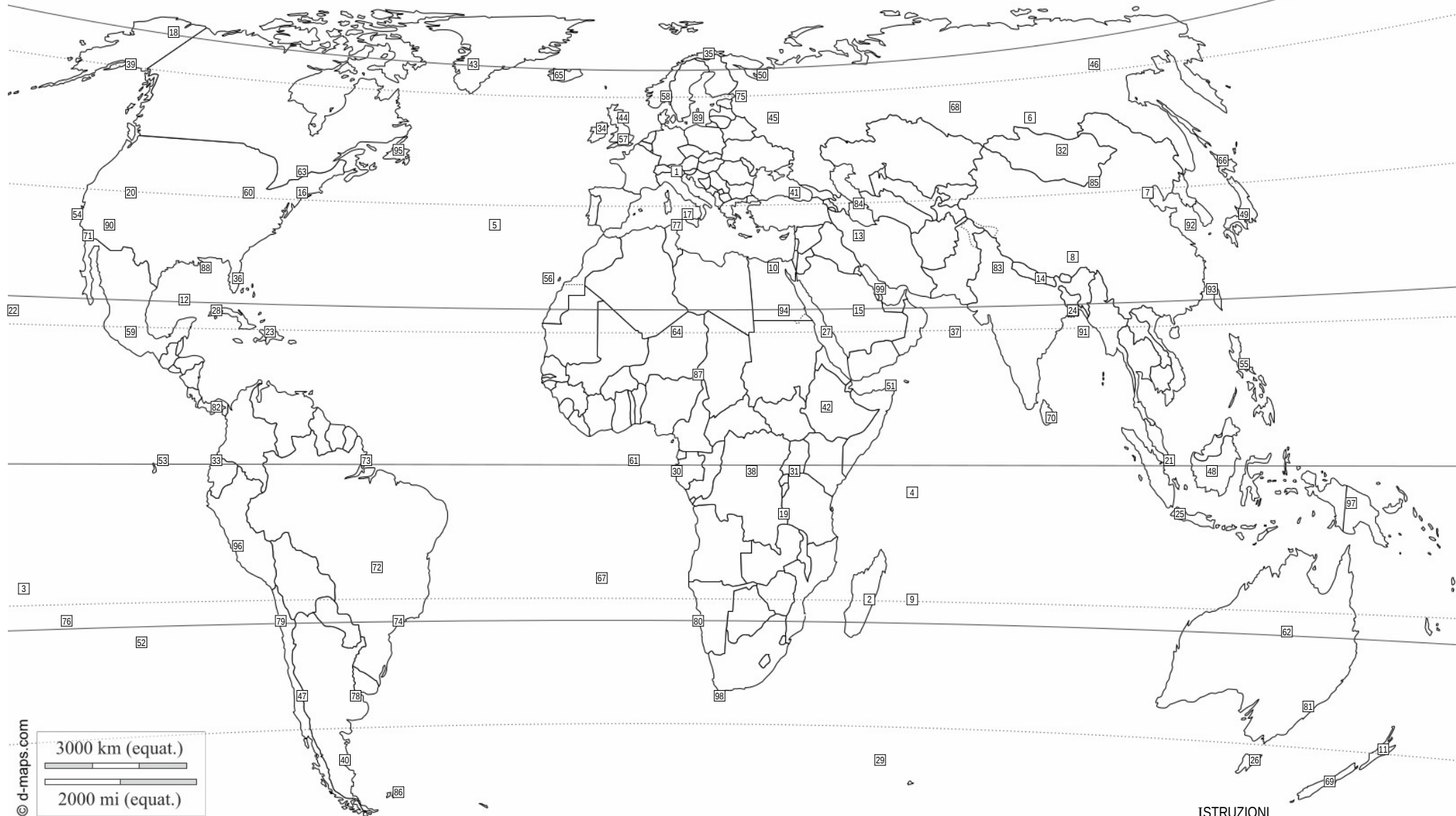
LOCALITÀ	NUM	LAT
Quito	99	0°
Dacca	67	23° N
Hokkaido	44	45° N
Tasmania	51	42° S
Filippine	43	15° N
Isole Crozet	22	45° S
Golfo del Bengala	27	20° N
Kampala	6	0°

LOCALITÀ	NUM	LAT
Isola del Sud	29	45° S
Delta del Mississippi	40	30° N
Chicago	84	42° N
Deserto del Gobi	90	42° N
Mar Baltico	34	56° N
Golfo del Messico	37	23° N
Mar Caspio	54	40° N
Golfo Persico	93	25° N

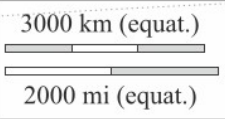
LOCALITÀ	NUM	LAT
L'Avana	55	23° N
Madagascar	36	20° S
Singapore	80	1° N
Fort Yukon	81	67° N
Isola Maurizio	61	20° S
San Paolo	12	23° S

**ISTRUZIONI**

- Sulla mappa ci sono 99 località numerate
- Identifica sulla mappa il numero che rappresenta la posizione di ciascuna delle 38 località elencate nella tabella.
- Scrivi i numeri corrispondenti a fianco dei nomi, nella colonna NUM.
- Nella colonna LAT, scrivi la latitudine in gradi (fai una stima basandoti sui paralleli tracciati sulla mappa).
- Per le località su aree molto vaste la latitudine da scrivere è quella del punto in cui è posizionato il numero.



© d-maps.com



LOCALITÀ	NUM	LAT
Venezia	1	45° N
Golfo del Messico	12	23° N
Golfo del Bengala	91	20° N
Islanda	65	64° N
L'Avana	28	23° N
Honolulu	22	23° N
Tasmania	26	42° S
Alice Springs	62	23° S

LOCALITÀ	NUM	LAT
Isole Crozet	29	45° S
Madagascar	2	20° S
Mosca	45	56° N
Dacca	24	23° N
Filippine	55	15° N
Hokkaido	66	45° N
Quito	33	0°
Singapore	21	1° N

LOCALITÀ	NUM	LAT
Isole Eolie	17	38° N
Comodoro	40	45° S
Mar Caspio	84	40° N
Bacino del Congo	38	0°
Delta del Mississippi	88	30° N
Edimburgo	44	56° N
Walvis Bay	80	23° S
Hammerfest	35	71° N

LOCALITÀ	NUM	LAT
Ottawa	63	45° N
Isole Seychelles	4	5° S
Groenlandia	43	67° N
Corno d'Africa	51	12° N
Golfo Persico	99	25° N
Chicago	60	42° N
Isola del Sud	69	45° S
Kampala	31	0°

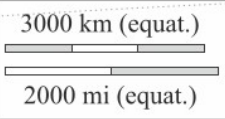
LOCALITÀ	NUM	LAT
Assuan	94	23° N
Fort Yukon	18	67° N
San Paolo	74	23° S
Isola Maurizio	9	20° S
Mar Baltico	89	56° N
Deserto del Gobi	85	42° N

**ISTRUZIONI**

- Sulla mappa ci sono 99 località numerate
- Identifica sulla mappa il numero che rappresenta la posizione di ciascuna delle 38 località elencate nella tabella.
- Scrivi i numeri corrispondenti a fianco dei nomi, nella colonna NUM.
- Nella colonna LAT, scrivi la latitudine in gradi (fai una stima basandoti sui paralleli tracciati sulla mappa).
- Per le località su aree molto vaste la latitudine da scrivere è quella del punto in cui è posizionato il numero.



© d-maps.com



LOCALITÀ	NUM	LAT
Venezia	1	45° N
Kampala	4	0°
Fort Yukon	80	67° N
Isola del Sud	74	45° S
Ottawa	98	45° N
Golfo Persico	64	25° N
Mar Baltico	28	56° N
L'Avana	55	23° N

LOCALITÀ	NUM	LAT
Madagascar	69	20° S
Bacino del Congo	27	0°
Chicago	11	42° N
Filippine	43	15° N
Isole Seychelles	31	5° S
Groenlandia	76	67° N
Hokkaido	36	45° N
San Paolo	88	23° S

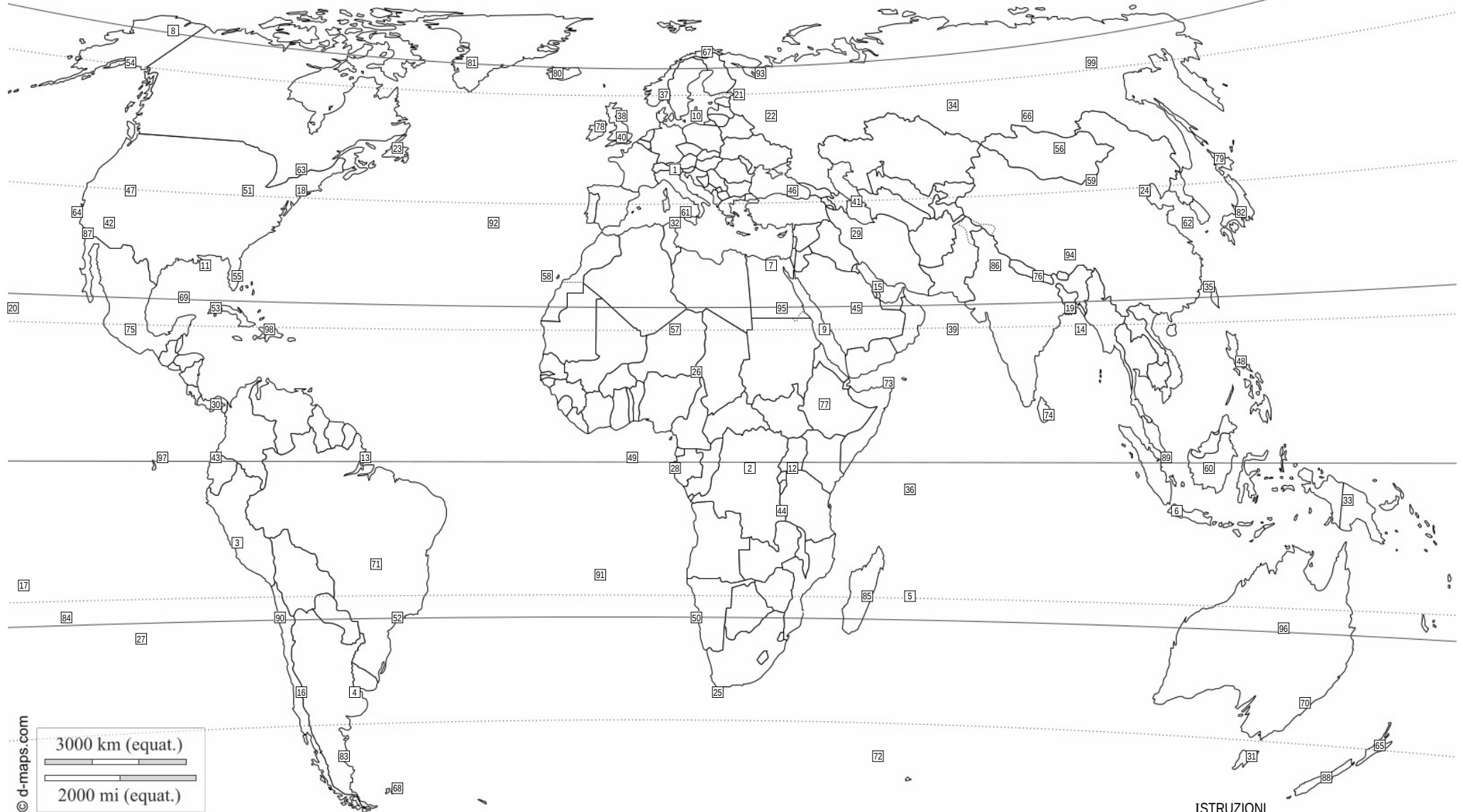
LOCALITÀ	NUM	LAT
Mar Caspio	41	40° N
Isole Eolie	65	38° N
Quito	51	0°
Comodoro	25	45° S
Isola Maurizio	50	20° S
Walvis Bay	71	23° S
Assuan	18	23° N
Alice Springs	92	23° S

LOCALITÀ	NUM	LAT
Singapore	56	1° N
Delta del Mississippi	79	30° N
Golfo del Bengala	12	20° N
Mosca	9	56° N
Deserto del Gobi	8	42° N
Golfo del Messico	82	23° N
Tasmania	10	42° S
Edimburgo	35	56° N

LOCALITÀ	NUM	LAT
Hammerfest	83	71° N
Dacca	86	23° N
Isole Crozet	14	45° S
Islanda	16	64° N
Honolulu	26	23° N
Corno d'Africa	49	12° N

**ISTRUZIONI**

- Sulla mappa ci sono 99 località numerate
- Identifica sulla mappa il numero che rappresenta la posizione di ciascuna delle 38 località elencate nella tabella.
- Scrivi i numeri corrispondenti a fianco dei nomi, nella colonna NUM.
- Nella colonna LAT, scrivi la latitudine in gradi (fai una stima basandoti sui paralleli tracciati sulla mappa).
- Per le località su aree molto vaste la latitudine da scrivere è quella del punto in cui è posizionato il numero.



© d-maps.com

LOCALITÀ	NUM	LAT
Venezia	1	45° N
San Paolo	52	23° S
Edimburgo	38	56° N
Fort Yukon	8	67° N
Hokkaido	79	45° N
Golfo del Messico	69	23° N
Isola Maurizio	5	20° S
Corno d'Africa	73	12° N

LOCALITÀ	NUM	LAT
Madagascar	85	20° S
Dacca	19	23° N
Alice Springs	96	23° S
Deserto del Gobi	59	42° N
Islanda	80	64° N
Mar Baltico	10	56° N
Filippine	48	15° N
Isola del Sud	88	45° S

LOCALITÀ	NUM	LAT
Isole Eolie	61	38° N
Singapore	89	1° N
L'Avana	53	23° N
Hammerfest	67	71° N
Isole Crozet	72	45° S
Comodoro	83	45° S
Mar Caspio	41	40° N
Chicago	51	42° N

LOCALITÀ	NUM	LAT
Golfo del Bengala	14	20° N
Isole Seychelles	36	5° S
Ottawa	63	45° N
Quito	43	0°
Honolulu	20	23° N
Groenlandia	81	67° N
Golfo Persico	15	25° N
Walvis Bay	50	23° S

LOCALITÀ	NUM	LAT
Delta del Mississippi	11	30° N
Tasmania	31	42° S
Mosca	22	56° N
Bacino del Congo	2	0°
Kampala	12	0°
Assuan	95	23° N

- ISTRUZIONI**
- Sulla mappa ci sono 99 località numerate
  - Identifica sulla mappa il numero che rappresenta la posizione di ciascuna delle 38 località elencate nella tabella.
  - Scrivi i numeri corrispondenti a fianco dei nomi, nella colonna NUM.
  - Nella colonna LAT, scrivi la latitudine in gradi (fai una stima basandoti sui paralleli tracciati sulla mappa).
  - Per le località su aree molto vaste la latitudine da scrivere è quella del punto in cui è posizionato il numero.